











Rozdíl do 10

Spočítej příklady ... kolik je teček?

| Sada A | Sada B |
|--|--|
| $10 - 7 =$  | $6 - 2 =$  |
| $6 - 4 =$  | $7 - 2 =$  |
| $7 - 4 =$  | $9 - 3 =$  |
| $8 - 2 =$  | $10 - 7 =$  |
| $9 - 5 =$  | $8 - 4 =$  |

Pracovní listy EDUnino jsou **zdarma** k dispozici na stránce
<https://www.matematika.edunino.online/temata-matematiky>

Stahujte zdarma aplikaci pro trénování matematiky!

