











Rozdíl do 5

Spočítej příklady ... kolik je teček?

Sada A	Sada B
$3 - 1 =$ 	$4 - 1 =$ 
$4 - 2 =$ 	$2 - 1 =$ 
$5 - 3 =$ 	$5 - 2 =$ 
$4 - 1 =$ 	$4 - 3 =$ 
$5 - 4 =$ 	$5 - 4 =$ 

Pracovní listy EDUnino jsou **zdarma** k dispozici na stránce
<https://www.matematika.edunino.online/temata-matematiky>

Stahujte zdarma aplikaci pro trénování matematiky!

