











## Součet do 10

Spočítej příklady ... kolik je teček?

Sada A	Sada B
$6 + 1 =$ 	$2 + 5 =$ 
$5 + 3 =$ 	$4 + 4 =$ 
$3 + 3 =$ 	$6 + 2 =$ 
$2 + 6 =$ 	$3 + 4 =$ 
$4 + 3 =$ 	$3 + 6 =$ 

Pracovní listy EDUnino jsou **zdarma** k dispozici na stránce  
<https://www.matematika.edunino.online/temata-matematiky>

Stahujte zdarma aplikaci pro trénování matematiky!

