











Součet do 5

Spočítej příklady ... kolik je teček?

| Sada A | Sada B |
|--|---|
| $3 + 1 =$  | $1 + 4 =$  |
| $1 + 2 =$  | $2 + 3 =$  |
| $2 + 2 =$  | $2 + 1 =$  |
| $4 + 1 =$  | $1 + 3 =$  |
| $1 + 3 =$  | $2 + 2 =$  |

Pracovní listy EDUnino jsou **zdarma** k dispozici na stránce
<https://www.matematika.edunino.online/temata-matematiky>

Stahujte zdarma aplikaci pro trénování matematiky!

