


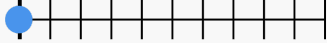



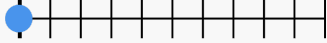



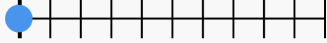



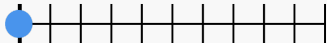




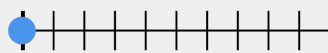

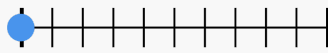

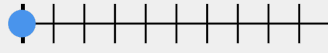
















QR	Cvičení	Ukázka	QR
	<p>Rozklad čísel Rozklad čísel (desítky, jednotky, desetiny, setiny) ≡ 10 otázek ⌚ 5 min 🏆 obtížnost 5</p> <p>BAVECR → výber z možností</p>	<p>Jaká číslice je v desetínách? 9,75</p> <p>Jaká číslice je v desetínách? 29,45</p>	
	<p>Rozklad čísel Rozklad čísel (desítky, jednotky, desetiny, setiny) ≡ 20 otázek ⌚ 5 min 🏆 obtížnost 5</p> <p>NUCVDT → výber z možností</p>	<p>Jaká číslice je v desetínách? 3,2</p> <p>Jaká číslice je v desetínách? 7,89</p>	
	<p>Číselná osa, desetinná čísla (desetina, 0..1) Orientace na číselné ose, desetinná čísla (desetina, 0..1, základní) ≡ 5 otázek ⌚ 4 min 🏆 obtížnost 5</p> <p>LJGEPN → číselná osa</p>	<p>Kde se na číselné ose nachází číslo 0.8</p> 	
	<p>Číselná osa, desetinná čísla (desetina) Orientace na číselné ose, desetinná čísla (desetina, X..X+1, základní) ≡ 10 otázek ⌚ 4 min 🏆 obtížnost 5</p> <p>BNHVAC → číselná osa</p>	<p>Kde se na číselné ose nachází číslo 6.9</p> 	
	<p>Číselná osa, desetinná čísla (desetina) Orientace na číselné ose, desetinná čísla (desetina, X..X+1, základní) ≡ 15 otázek ⌚ 4 min 🏆 obtížnost 5</p> <p>LCEVSP → číselná osa</p>	<p>Kde se na číselné ose nachází číslo 1.7</p> 	
	<p>Číselná osa, desetinná čísla (desetina - B) Orientace na číselné ose, desetinná čísla (desetina, X..X+1, základní B) ≡ 10 otázek ⌚ 4 min 🏆 obtížnost 5</p> <p>NVPCGS → číselná osa</p>	<p>Kde se na číselné ose nachází číslo 79.8</p> 	
	<p>Číselná osa, desetinná čísla (desetina - B) Orientace na číselné ose, desetinná čísla (desetina, X..X+1, základní B) ≡ 15 otázek ⌚ 4 min 🏆 obtížnost 5</p> <p>BSHAPD → číselná osa</p>	<p>Kde se na číselné ose nachází číslo 26.9</p> 	
	<p>Číselná osa, desetinná čísla (desetina) Orientace na číselné ose, desetinná čísla (desetina, 0..1) ≡ 10 otázek ⌚ 4 min 🏆 obtížnost 5</p> <p>UCLDFE → číselná osa</p>	<p>Kde se na číselné ose nachází číslo 0.3</p> 	
	<p>Číselná osa, desetinná čísla (desetina) Orientace na číselné ose, desetinná čísla (desetina, 0..1) ≡ 15 otázek ⌚ 4 min 🏆 obtížnost 5</p> <p>NBCEAP → číselná osa</p>	<p>Kde se na číselné ose nachází číslo 0.6</p> 	
	<p>Číselná osa, desetinná čísla (desetina) Orientace na číselné ose, desetinná čísla (desetina, X..X+1) ≡ 10 otázek ⌚ 4 min 🏆 obtížnost 5</p> <p>LEBPDA → číselná osa</p>	<p>Kde se na číselné ose nachází číslo 9.3</p> 	
	<p>Číselná osa, desetinná čísla (desetina) Orientace na číselné ose, desetinná čísla (desetina, X..X+1) ≡ 15 otázek ⌚ 4 min 🏆 obtížnost 5</p> <p>CADEPS → číselná osa</p>	<p>Kde se na číselné ose nachází číslo 7.3</p> 	

<p>Číselná osa, desetinná čísla (desetina) Orientace na číselné ose, desetinná čísla (desetina, X.. X+1) ≡ 10 otázek ⌚ 4 min 🏆 obtížnost 5</p> <p>ERNGBA → číselná osa</p>	<p>Kde se na číselné ose nachází číslo 83.4</p> 	
<p>Číselná osa, desetinná čísla (desetina) Orientace na číselné ose, desetinná čísla (desetina, X.. X+1) ≡ 15 otázek ⌚ 4 min 🏆 obtížnost 5</p> <p>SCLPAD → číselná osa</p>	<p>Kde se na číselné ose nachází číslo 47.3</p> 	
<p>Číselná osa, desetinná čísla (setina) Orientace na číselné ose, desetinná čísla (setina, X,X.. X,X+1) ≡ 10 otázek ⌚ 4 min 🏆 obtížnost 5</p> <p>KTCHNE → číselná osa</p>	<p>Kde se na číselné ose nachází číslo 3.41</p> 	
<p>Číselná osa, desetinná čísla (setina) Orientace na číselné ose, desetinná čísla (setina, X,X.. X,X+1) ≡ 15 otázek ⌚ 4 min 🏆 obtížnost 5</p> <p>EDLBUA → číselná osa</p>	<p>Kde se na číselné ose nachází číslo 7.32</p> 	
<p>Porovnávání des. čísel Porovnávání desetinných čísel ≡ 10 otázek ⌚ 3 min 🏆 obtížnost 5</p> <p>UPVERL → výber z možností</p>	<p>Zvol správný znak rovnosti či nerovnosti 33,12 __ 12,12 Zvol správný znak rovnosti či nerovnosti 26,789 __ 26,889</p>	
<p>Porovnávání des. čísel Porovnávání desetinných čísel v rozkladu ≡ 10 otázek ⌚ 3 min 🏆 obtížnost 5</p> <p>LRCATU → výber z možností</p>	<p>Zvol správný znak rovnosti či nerovnosti 25,67 __ 20 + 5,67 Zvol správný znak rovnosti či nerovnosti 26,37 __ 20 + 6 + 0,37</p>	
<p>Setřídění deset. čísla A Setřídění desetinných čísel - základní (0,x) ≡ 5 otázek ⌚ 4 min 🏆 obtížnost 5</p> <p>AGUHEC → setřídění</p>	<p>0,1 - 0,2 - 0,3</p>	
<p>Setřídění deset. čísla B Setřídění desetinných čísel - rozšířené (0,x.. 0,0x) ≡ 5 otázek ⌚ 4 min 🏆 obtížnost 5</p> <p>RHLPAD → setřídění</p>	<p>0,1 - 0,2 - 0,3</p>	
<p>Porovnávání des. čísel Porovnávání desetinných čísel (s 0 na začátku) ≡ 10 otázek ⌚ 3 min 🏆 obtížnost 5</p> <p>NHSACD → výber z možností</p>	<p>Zvol správný znak rovnosti či nerovnosti 0,543 __ 0,653 Zvol správný znak rovnosti či nerovnosti 0,6006 __ 0,0606</p>	
<p>Správnost rozkladu Potvrď správnost rozkladu čísel (ab,cd = a + b,cd) ≡ 10 otázek ⌚ 5 min 🏆 obtížnost 5</p> <p>ULDCHG → ano / ne</p>	<p>Potvrď, zda je rozklad správný 15,5 = 15 + 5,5 Potvrď, zda je rozklad správný 12,3 = 10 + 2,3</p>	
<p>Součet des. čísel (desetiny, bez přechodu) ≡ 10 otázek ⌚ 5 min 🏆 obtížnost 5</p> <p>LKPDSH → výber z možností</p>	<p>Sečti správně desetinná čísla 0,5 + 0,3 Sečti správně desetinná čísla 0,5 + 0,3</p>	
<p>Součet des. čísel (desetiny, bez přechodu) ≡ 10 otázek ⌚ 5 min 🏆 obtížnost 5</p> <p>EJGLSP → výber z možností</p>	<p>Sečti správně desetinná čísla 0,7 + 0,2 Sečti správně desetinná čísla 0,2 + 0,4</p>	
<p>Součet des. čísel (x,x + 0,x; desetiny, bez přechodu) ≡ 10 otázek ⌚ 5 min 🏆 obtížnost 5</p> <p>VNHSJL → výber z možností</p>	<p>Sečti správně desetinná čísla 2,5 + 0,2 Sečti správně desetinná čísla 1,1 + 0,2</p>	
<p>Součet des. čísel (x,x + 0,x; desetiny, bez přechodu) ≡ 10 otázek ⌚ 5 min 🏆 obtížnost 5</p> <p>CSPENB → výber z možností</p>	<p>Sečti správně desetinná čísla 1,7 + 0,2 Sečti správně desetinná čísla 4,5 + 0,3</p>	

<p>Součet des. čísel (0,xx + 0,0x: setiny, bez přechodu 1) ≡ 10 otázek ⌚ 5 min 🏆 obtížnost 5 DSLAVN 🗑️ výber z možností</p>	<p>Sečti správně desetinná čísla 0,19 + 0,30 Sečti správně desetinná čísla 0,44 + 0,40</p>	
<p> Součet des. čísel (0,xx + 0,0x: setiny, bez přechodu 1) ≡ 10 otázek ⌚ 5 min 🏆 obtížnost 5 LEBVCU 🗑️ výber z možností</p>	<p>Sečti správně desetinná čísla 0,19 + 0,30 Sečti správně desetinná čísla 0,35 + 0,50</p>	
<p>Součet des. čísel (x,xx + x) ≡ 10 otázek ⌚ 5 min 🏆 obtížnost 5 GANCEL 🗑️ výber z možností</p>	<p>Sečti správně desetinná čísla 3,3 + 3 Sečti správně desetinná čísla 4,4 + 2</p>	
<p> Součet des. čísel (x,xx + x) ≡ 10 otázek ⌚ 5 min 🏆 obtížnost 5 HACBRE 🗑️ výber z možností</p>	<p>Sečti správně desetinná čísla 4,2 + 9 Sečti správně desetinná čísla 4,4 + 7</p>	
<p>Součet des. čísel (x,xx + x,xx) ≡ 10 otázek ⌚ 5 min 🏆 obtížnost 5 PESNTA 🗑️ výber z možností</p>	<p>Sečti správně desetinná čísla 5,34 + 2,35 Sečti správně desetinná čísla 7,86 + 2,57</p>	
<p> Součet des. čísel (x,xx + x,xx) ≡ 10 otázek ⌚ 5 min 🏆 obtížnost 5 LVECGU 🗑️ výber z možností</p>	<p>Sečti správně desetinná čísla 7,24 + 2,25 Sečti správně desetinná čísla 5,65 + 2,46</p>	
<p>Součet des. čísel (xxx,xx + xxx,xx) ≡ 10 otázek ⌚ 6 min 🏆 obtížnost 5 BCASHL 🗑️ výber z možností</p>	<p>Sečti správně desetinná čísla 474,54 + 534,24 Sečti správně desetinná čísla 346,35 + 646,33</p>	
<p> Součet des. čísel (xxx,xx + xxx,xx) ≡ 10 otázek ⌚ 6 min 🏆 obtížnost 5 NDAEPJ 🗑️ výber z možností</p>	<p>Sečti správně desetinná čísla 326,35 + 345,33 Sečti správně desetinná čísla 942,84 + 532,49</p>	
<p>Rozdíl des. čísel (desetiny, bez přechodu) ≡ 10 otázek ⌚ 5 min 🏆 obtížnost 5 CLEARJ 🗑️ výber z možností</p>	<p>Odečti správně desetinná čísla 0,8 - 0,3 Odečti správně desetinná čísla 0,7 - 0,6</p>	
<p> Rozdíl des. čísel (desetiny, bez přechodu) ≡ 10 otázek ⌚ 5 min 🏆 obtížnost 5 SCVABT 🗑️ výber z možností</p>	<p>Odečti správně desetinná čísla 0,9 - 0,5 Odečti správně desetinná čísla 0,8 - 0,4</p>	
<p>Rozdíl des. čísel (xx - 0,x: desetiny, bez přechodu) ≡ 10 otázek ⌚ 5 min 🏆 obtížnost 5 EDCSNG 🗑️ výber z možností</p>	<p>Odečti správně desetinná čísla 3,7 - 0,3 Odečti správně desetinná čísla 1,9 - 0,2</p>	
<p> Rozdíl des. čísel (x,x - 0,x: desetiny, bez přechodu) ≡ 10 otázek ⌚ 5 min 🏆 obtížnost 5 ALDPUH 🗑️ výber z možností</p>	<p>Odečti správně desetinná čísla 1,9 - 0,5 Odečti správně desetinná čísla 3,6 - 0,3</p>	
<p>Rozdíl des. čísel (0,xx - 0,xx: setiny, bez přechodu) ≡ 10 otázek ⌚ 5 min 🏆 obtížnost 5 ALFJEP 🗑️ výber z možností</p>	<p>Odečti správně desetinná čísla 0,77 - 0,34 Odečti správně desetinná čísla 0,58 - 0,37</p>	
<p> Rozdíl des. čísel (0,xx - 0,xx: setiny, bez přechodu) ≡ 10 otázek ⌚ 5 min 🏆 obtížnost 5 EPXNAL 🗑️ výber z možností</p>	<p>Odečti správně desetinná čísla 0,48 - 0,47 Odečti správně desetinná čísla 0,55 - 0,22</p>	
<p>Rozdíl des. čísel (0,xx - 0,xx: setiny, s přechodem) ≡ 10 otázek ⌚ 5 min 🏆 obtížnost 5 VJPXKB 🗑️ výber z možností</p>	<p>Odečti správně desetinná čísla 0,89 - 0,43 Odečti správně desetinná čísla 0,33 - 0,09</p>	

	<p>Rozdíl des. čísel (0,xx - 0,xx setiny, s přechodem) ≡ 10 otázek ⌚ 5 min 🏃 obtížnost 5 CNJVLB 🗳️ výber z možností</p>	<p>Odečti správně desetinná čísla 0,61 - 0,21 Odečti správně desetinná čísla 0,97 - 0,31</p>	
	<p>Rozdíl des. čísel (x,x - x) ≡ 10 otázek ⌚ 5 min 🏃 obtížnost 5 DVNHL C 🗳️ výber z možností</p>	<p>Odečti správně desetinná čísla 7,4 - 5 Odečti správně desetinná čísla 6,8 - 5</p>	
	<p>Rozdíl des. čísel (x,x - x) ≡ 10 otázek ⌚ 5 min 🏃 obtížnost 5 LCVUES 🗳️ výber z možností</p>	<p>Odečti správně desetinná čísla 9,2 - 8 Odečti správně desetinná čísla 5,2 - 5</p>	
	<p>Rozdíl des. čísel (x,xx - x) ≡ 10 otázek ⌚ 6 min 🏃 obtížnost 5 LECKSB 🗳️ výber z možností</p>	<p>Odečti správně desetinná čísla 7,37 - 6 Odečti správně desetinná čísla 4,64 - 4</p>	
	<p>Rozdíl des. čísel (x,xx - x) ≡ 10 otázek ⌚ 6 min 🏃 obtížnost 5 PRELSA 🗳️ výber z možností</p>	<p>Odečti správně desetinná čísla 6,77 - 4 Odečti správně desetinná čísla 5,44 - 3</p>	
	<p>Rozdíl des. čísel (x,xx - 0,x) ≡ 10 otázek ⌚ 6 min 🏃 obtížnost 5 JTRPBA 🗳️ výber z možností</p>	<p>Odečti správně desetinná čísla 6,12 - 0,2 Odečti správně desetinná čísla 9,41 - 0,1</p>	
	<p>Rozdíl des. čísel (x,xx - 0,x) ≡ 10 otázek ⌚ 6 min 🏃 obtížnost 5 NGTJPE 🗳️ výber z možností</p>	<p>Odečti správně desetinná čísla 5,78 - 0,5 Odečti správně desetinná čísla 4,92 - 0,2</p>	
	<p>Rozdíl des. čísel (x,xx - x,x) ≡ 10 otázek ⌚ 6 min 🏃 obtížnost 5 SHGCAV 🗳️ výber z možností</p>	<p>Odečti správně desetinná čísla 7,01 - 4,5 Odečti správně desetinná čísla 3,81 - 3,1</p>	
	<p>Rozdíl des. čísel (x,xx - x,x) ≡ 10 otázek ⌚ 6 min 🏃 obtížnost 5 CPHEBT 🗳️ výber z možností</p>	<p>Odečti správně desetinná čísla 5,46 - 4,4 Odečti správně desetinná čísla 6,63 - 5,4</p>	
	<p>Rozdíl des. čísel (xxx,xx - xx,xx) ≡ 10 otázek ⌚ 6 min 🏃 obtížnost 5 ELPRBD 🗳️ výber z možností</p>	<p>Odečti správně desetinná čísla 940,45 - 527,74 Odečti správně desetinná čísla 831,42 - 388,78</p>	
	<p>Rozdíl des. čísel (xxx,xx - xx,xx) ≡ 10 otázek ⌚ 6 min 🏃 obtížnost 5 RELTBX 🗳️ výber z možností</p>	<p>Odečti správně desetinná čísla 719,78 - 249,82 Odečti správně desetinná čísla 804,3 - 354,04</p>	
	<p>Zaokrouhlování desetinných čísel na desetiny (základní) ≡ 10 otázek ⌚ 4 min 🏃 obtížnost 5 AUBNCL 🗳️ výber z možností</p>	<p>Zaokrouhli správně číslo 0,5 na desetinu Zaokrouhli správně číslo 1,15 na desetinu</p>	
	<p>Zaokrouhlování desetinných čísel na desetiny (základní) ≡ 20 otázek ⌚ 8 min 🏃 obtížnost 5 SLVJDE 🗳️ výber z možností</p>	<p>Zaokrouhli správně číslo 0,32 na desetinu Zaokrouhli správně číslo 1,17 na desetinu</p>	
	<p>Zaokrouhlování desetinných čísel na desetiny (rozšířené) ≡ 10 otázek ⌚ 4 min 🏃 obtížnost 5 LESXCK 🗳️ výber z možností</p>	<p>Zaokrouhli správně číslo 74,05 na desetinu Zaokrouhli správně číslo 389,34 na desetinu</p>	
	<p>Zaokrouhlování desetinných čísel na desetiny (rozšířené) ≡ 20 otázek ⌚ 8 min 🏃 obtížnost 5 LCKRGV 🗳️ výber z možností</p>	<p>Zaokrouhli správně číslo 43,21 na desetinu Zaokrouhli správně číslo 358,16 na desetinu</p>	

<p>Zaokrouhlování desetinných čísel na jednotky (základní)</p> <p>≡ 10 otázek ⌚ 4 min 🏆 obtížnost 5</p> <p>PELTHV 🗑️ výber z možností</p>	<p>Zaokrouhli správně 8,8 na celé číslo Zaokrouhli správně 9,2 na celé číslo</p>	
 <p>Zaokrouhlování desetinných čísel na jednotky (základní)</p> <p>≡ 20 otázek ⌚ 8 min 🏆 obtížnost 5</p> <p>JRVGPB 🗑️ výber z možností</p>	<p>Zaokrouhli správně 6,6 na celé číslo Zaokrouhli správně 9,2 na celé číslo</p>	
<p>Zaokrouhlování desetinných čísel na jednotky (rozšířené)</p> <p>≡ 10 otázek ⌚ 4 min 🏆 obtížnost 5</p> <p>NTVHLC 🗑️ výber z možností</p>	<p>Zaokrouhli správně 70,27 na celé číslo Zaokrouhli správně 34,4 na celé číslo</p>	
 <p>Zaokrouhlování desetinných čísel na jednotky (rozšířené)</p> <p>≡ 20 otázek ⌚ 8 min 🏆 obtížnost 5</p> <p>VGAPBD 🗑️ výber z možností</p>	<p>Zaokrouhli správně 420,74 na celé číslo Zaokrouhli správně 345,789 na celé číslo</p>	
<p>Zaokrouhlování desetinných čísel na setiny (základní)</p> <p>≡ 10 otázek ⌚ 4 min 🏆 obtížnost 5</p> <p>AHSLND 🗑️ výber z možností</p>	<p>Zaokrouhli správně číslo 0,155 na setiny Zaokrouhli správně číslo 3,567 na setiny</p>	
 <p>Zaokrouhlování desetinných čísel na setiny (základní)</p> <p>≡ 20 otázek ⌚ 8 min 🏆 obtížnost 5</p> <p>PFABCE 🗑️ výber z možností</p>	<p>Zaokrouhli správně číslo 2,712 na setiny Zaokrouhli správně číslo 1,685 na setiny</p>	
<p>Zaokrouhlování desetinných čísel na setiny (rozšířené)</p> <p>≡ 10 otázek ⌚ 4 min 🏆 obtížnost 5</p> <p>RLFNSA 🗑️ výber z možností</p>	<p>Zaokrouhli správně číslo 573,4868 na setiny Zaokrouhli správně číslo 33,095 na setiny</p>	
 <p>Zaokrouhlování desetinných čísel na setiny (rozšířené)</p> <p>≡ 20 otázek ⌚ 8 min 🏆 obtížnost 5</p> <p>TBFCEA 🗑️ výber z možností</p>	<p>Zaokrouhli správně číslo 10,1166 na setiny Zaokrouhli správně číslo 37,8215 na setiny</p>	
<p>Zaokrouhlování desetinných čísel na tisíciny</p> <p>≡ 10 otázek ⌚ 4 min 🏆 obtížnost 5</p> <p>GNFSAE 🗑️ výber z možností</p>	<p>Zaokrouhli správně číslo 54478,62865 na tisíciny Zaokrouhli správně číslo 73,2361 na tisíciny</p>	
 <p>Zaokrouhlování desetinných čísel na tisíciny</p> <p>≡ 20 otázek ⌚ 8 min 🏆 obtížnost 5</p> <p>HUAEVJ 🗑️ výber z možností</p>	<p>Zaokrouhli správně číslo 8,0982 na tisíciny Zaokrouhli správně číslo 30658,7949 na tisíciny</p>	
<p>Zaokrouhlování desetinných čísel na desetitisíciny</p> <p>≡ 10 otázek ⌚ 4 min 🏆 obtížnost 5</p> <p>PLFAEC 🗑️ výber z možností</p>	<p>Zaokrouhli správně číslo 54591,93729 na desetitisíciny Zaokrouhli správně číslo 87341,20229 na desetitisíciny</p>	
 <p>Zaokrouhlování desetinných čísel na desetitisíciny</p> <p>≡ 20 otázek ⌚ 8 min 🏆 obtížnost 5</p> <p>LEDAVH 🗑️ výber z možností</p>	<p>Zaokrouhli správně číslo 71989,8223414 na desetitisíciny Zaokrouhli správně číslo 54567,824394 na desetitisíciny</p>	
<p>Převod jednotek - hmotnost Převody jednotek (g, dkg, kg, t) - základní</p> <p>≡ 10 otázek ⌚ 5 min 🏆 obtížnost 5</p> <p>NEGXUA 🗑️ výber z možností</p>	<p>Vypočítej správně 7 g = __ dkg Vypočítej správně 100 dkg = __ kg</p>	
 <p>Převod jednotek - hmotnost Převody jednotek (g, dkg, kg, t) - základní</p> <p>≡ 20 otázek ⌚ 7 min 🏆 obtížnost 5</p> <p>UXHACE 🗑️ výber z možností</p>	<p>Vypočítej správně 800 kg = __ dkg Vypočítej správně 2 kg = __ dkg</p>	

<p>Převod jednotek - hmotnost Převody jednotek (g, dkg, kg, t) - základní ≡ 10 otázek ⌚ 5 min 🏆 obtížnost 5 LUPAHC ⇨ zadání hodnoty</p>	<p>Vypočítej správně 50 dkg = __ kg Vypočítej správně 0 dkg = __ kg</p>	
<p> Převod jednotek - hmotnost Převody jednotek (g, dkg, kg, t) - základní ≡ 20 otázek ⌚ 7 min 🏆 obtížnost 5 ELHSUD ⇨ zadání hodnoty</p>	<p>Vypočítej správně 600 g = __ dkg Vypočítej správně 900 dkg = __ kg</p>	
<p>Převod jednotek - objem Převody jednotek (ml, cl, dl, l) - pokročilejší ≡ 10 otázek ⌚ 5 min 🏆 obtížnost 5 AEBVKL ⇨ výběr z možností</p>	<p>Vypočítej správně 50 l = __ cl Vypočítej správně 300 ml = __ dl</p>	
<p> Převod jednotek - objem Převody jednotek (ml, cl, dl, l) - pokročilejší ≡ 20 otázek ⌚ 7 min 🏆 obtížnost 5 UANCSL ⇨ výběr z možností</p>	<p>Vypočítej správně 60 ml = __ cl Vypočítej správně 700 ml = __ cl</p>	
<p>Převod jednotek - objem Převody jednotek (ml, cl, dl, l) - pokročilejší ≡ 10 otázek ⌚ 5 min 🏆 obtížnost 5 LUCDRP ⇨ zadání hodnoty</p>	<p>Vypočítej správně 50 l = __ ml Vypočítej správně 30 l = __ ml</p>	
<p> Převod jednotek - objem Převody jednotek (ml, cl, dl, l) - pokročilejší ≡ 20 otázek ⌚ 7 min 🏆 obtížnost 5 ELTSKJ ⇨ zadání hodnoty</p>	<p>Vypočítej správně 700 l = __ dl Vypočítej správně 90 ml = __ cl</p>	
<p>Převod jednotek - délka Převody jednotek (mm, cm, dm, m) - pokročilejší ≡ 10 otázek ⌚ 5 min 🏆 obtížnost 5 AESGPN ⇨ výběr z možností</p>	<p>Vypočítej správně 30 dm = __ cm Vypočítej správně 20 mm = __ m</p>	
<p> Převod jednotek - délka Převody jednotek (mm, cm, dm, m) - pokročilejší ≡ 20 otázek ⌚ 7 min 🏆 obtížnost 5 UABHNV ⇨ výběr z možností</p>	<p>Vypočítej správně 50 m = __ mm Vypočítej správně 10 m = __ dm</p>	
<p>Převod jednotek - hmotnost Převody jednotek (g, dkg, kg, t) - základní ≡ 10 otázek ⌚ 5 min 🏆 obtížnost 5 LPAXBC ⇨ výběr z možností</p>	<p>Vypočítej správně 0,03 t = __ dkg Vypočítej správně 33,76 kg = __ dkg</p>	
<p> Převod jednotek - hmotnost Převody jednotek (g, dkg, kg, t) - základní ≡ 20 otázek ⌚ 7 min 🏆 obtížnost 5 GLADHE ⇨ výběr z možností</p>	<p>Vypočítej správně 303030 dkg = __ t Vypočítej správně 348673 dkg = __ t</p>	
<p>Převod jednotek - objem Převody jednotek (ml, cl, dl, l) - pokročilé ≡ 10 otázek ⌚ 5 min 🏆 obtížnost 5 ABVSUR ⇨ výběr z možností</p>	<p>Vypočítej správně 4,4 l = __ dl Vypočítej správně 6l,5 l = __ ml</p>	
<p> Převod jednotek - objem Převody jednotek (ml, cl, dl, l) - pokročilé ≡ 20 otázek ⌚ 7 min 🏆 obtížnost 5 UACNKT ⇨ výběr z možností</p>	<p>Vypočítej správně 11l,6 ml = __ dl Vypočítej správně 15,6 l = __ dl</p>	
<p>Převod jednotek - délka Převody jednotek (mm, cm, dm, m) - pokročilé ≡ 10 otázek ⌚ 5 min 🏆 obtížnost 5 LADCEG ⇨ výběr z možností</p>	<p>Vypočítej správně 92,92 m = __ dm Vypočítej správně 30,55 dm = __ cm</p>	
<p> Převod jednotek - délka Převody jednotek (mm, cm, dm, m) - pokročilé ≡ 20 otázek ⌚ 7 min 🏆 obtížnost 5 JULSPH ⇨ výběr z možností</p>	<p>Vypočítej správně 777 m = __ mm Vypočítej správně 0,237 m = __ dm</p>	
<p>Doplnění jednotek délky (mm, cm, dm, m - i desetinná čísla) ≡ 10 otázek ⌚ 5 min 🏆 obtížnost 5 VPUKLA ⇨ výběr z možností</p>	<p>Doplň správnou jednotku 20 mm = 0,02 __ Doplň správnou jednotku 60,12 m = 60120 __</p>	

	<p>Doplnění jednotek délky (mm, cm, dm, m - i desetinná čísla) ≡ 10 otázek ⌚ 5 min 🏆 obtížnost 5</p> <p>CUKBLA ⇨ zadání hodnoty</p>	<p>Doplň správnou jednotku 8080 cm = 808 __</p> <p>Doplň správnou jednotku 400,004 cm = 4000,04 __</p>	
	<p>Doplnění jednotek objemu (ml, cl, dl, l - i desetinná čísla) ≡ 10 otázek ⌚ 5 min 🏆 obtížnost 5</p> <p>LCETAN ⇨ výběr z možností</p>	<p>Doplň správnou jednotku 79,9l = 7990 __</p> <p>Doplň správnou jednotku 8,12 dl = 81,2 __</p>	
	<p>Doplnění jednotek objemu (ml, cl, dl, l - i desetinná čísla) ≡ 10 otázek ⌚ 5 min 🏆 obtížnost 5</p> <p>PSJELD ⇨ zadání hodnoty</p>	<p>Doplň správnou jednotku 19,7 dl = 1,97 __</p> <p>Doplň správnou jednotku 61,12l = 61120 __</p>	
	<p>Převod jednotek hmotnosti (g, dkg, kg, q, t - i desetinná čísla) ≡ 10 otázek ⌚ 5 min 🏆 obtížnost 5</p> <p>TDRABN ⇨ výběr z možností</p>	<p>Převeď správně 7,83 kg = __ t</p> <p>Převeď správně 12,01 q = __ kg</p>	
	<p>Setřídění objemu Setřídění hodnot objemu ≡ 5 otázek ⌚ 4 min 🏆 obtížnost 5</p> <p>TPEXUL ⇨ setřídění</p>	<p>9 ml - 7 cl - 5 dl</p>	
	<p>Setřídění délky Setřídění hodnot délky ≡ 5 otázek ⌚ 4 min 🏆 obtížnost 5</p> <p>GLABSC ⇨ setřídění</p>	<p>7 mm - 3 cm - 37 mm</p>	
	<p>Součet 3 des. čísel Součet 3 desetinných čísel (každé jiný řád: 0,x + 0,0x + 0,00x) ≡ 10 otázek ⌚ 7 min 🏆 obtížnost 5</p> <p>KACNLV ⇨ výběr z možností</p>	<p>Vypočítej 0,7 + 0,05 + 0,003</p> <p>Vypočítej 0,7 + 0,05 + 0,005</p>	
	<p>Součet 3 des. čísel Součet 3 desetinných čísel (každé jiný řád: 0,x + 0,0x + 0,00x) ≡ 10 otázek ⌚ 7 min 🏆 obtížnost 5</p> <p>LUDNEC ⇨ výběr z možností</p>	<p>Vypočítej 0,2 + 0,09 + 0,007</p> <p>Vypočítej 0,5 + 0,09 + 0,009</p>	
	<p>Násobení des. číslem Jednociferným přirozeným číslem (x,x . x) ≡ 10 otázek ⌚ 8 min 🏆 obtížnost 5</p> <p>NTDUEL ⇨ výběr z možností</p>	<p>Vypočítej 2,7 . 2 = __</p> <p>Vypočítej 3,4 . 3 = __</p>	
	<p>Násobení des. číslem Jednociferným přirozeným číslem (x,x . x) ≡ 20 otázek ⌚ 8 min 🏆 obtížnost 5</p> <p>UTNLKB ⇨ výběr z možností</p>	<p>Vypočítej 2,7 . 2 = __</p> <p>Vypočítej 1,9 . 3 = __</p>	
	<p>Násobení des. číslem Jednociferným přirozeným číslem (x,x . x) ≡ 10 otázek ⌚ 8 min 🏆 obtížnost 5</p> <p>LKVEAN ⇨ výběr z možností</p>	<p>Vypočítej 2,6 . 4 = __</p> <p>Vypočítej 1,3 . 4 = __</p>	
	<p>Násobení des. číslem Jednociferným přirozeným číslem (x,x . x) ≡ 20 otázek ⌚ 10 min 🏆 obtížnost 5</p> <p>ELPAXC ⇨ výběr z možností</p>	<p>Vypočítej 1,8 . 8 = __</p> <p>Vypočítej 3,4 . 2 = __</p>	
	<p>Násobení des. číslem Dvojciferným přirozeným číslem (x,x . x0) ≡ 10 otázek ⌚ 8 min 🏆 obtížnost 5</p> <p>KPJUES ⇨ výběr z možností</p>	<p>Vypočítej 4,3 . 30 = __</p> <p>Vypočítej 5,7 . 50 = __</p>	
	<p>Násobení des. číslem Dvojciferným přirozeným číslem (x,x . x0) ≡ 20 otázek ⌚ 10 min 🏆 obtížnost 5</p> <p>LJNUAE ⇨ výběr z možností</p>	<p>Vypočítej 3,5 . 40 = __</p> <p>Vypočítej 1,9 . 40 = __</p>	
	<p>Násobení des. číslem Dvojciferným přirozeným číslem (x,x . x0) ≡ 10 otázek ⌚ 8 min 🏆 obtížnost 5</p> <p>LCVJAU ⇨ výběr z možností</p>	<p>Vypočítej 3,5 . 40 = __</p> <p>Vypočítej 4,3 . 30 = __</p>	

	<p>Násobení des. číslem Dvojciferným přirozeným číslem (x,x . x0) ≡ 20 otázek ⌚ 10 min 🏆 obtížnost 5 GUCJEA 🗳️ výběr z možností</p>	<p>Vypočítej 2,3 . 30 = __ Vypočítej 0,3 . 90 = __</p>	
	<p>Násobení des. číslem Dvojciferným přirozeným číslem (x,xx . x) ≡ 10 otázek ⌚ 7 min 🏆 obtížnost 5 SRECVT 🗳️ výběr z možností</p>	<p>Vypočítej 4,32 . 8 = __ Vypočítej 2,34 . 3 = __</p>	
	<p>Násobení des. číslem Dvojciferným přirozeným číslem (x,xx . x) ≡ 20 otázek ⌚ 10 min 🏆 obtížnost 5 NTRDCV 🗳️ výběr z možností</p>	<p>Vypočítej 2,48 . 2 = __ Vypočítej 3,45 . 4 = __</p>	
	<p>Násobení des. číslem Dvojciferným přirozeným číslem (x,xx . x) ≡ 10 otázek ⌚ 7 min 🏆 obtížnost 5 AGTLDC 🗳️ výběr z možností</p>	<p>Vypočítej 2,55 . 5 = __ Vypočítej 3,42 . 9 = __</p>	
	<p>Násobení des. číslem Dvojciferným přirozeným číslem (x,xx . x) ≡ 20 otázek ⌚ 7 min 🏆 obtížnost 5 PHGNLD 🗳️ výběr z možností</p>	<p>Vypočítej 2,05 . 4 = __ Vypočítej 4,31 . 6 = __</p>	
	<p>Násobení des. číslem Dvojciferným přirozeným číslem (xx, x . x) ≡ 10 otázek ⌚ 7 min 🏆 obtížnost 5 APHJEL 🗳️ výběr z možností</p>	<p>Vypočítej 54,3 . 4 = __ Vypočítej 12,2 . 0 = __</p>	
	<p>Násobení des. číslem Dvojciferným přirozeným číslem (xx, x . x) ≡ 20 otázek ⌚ 7 min 🏆 obtížnost 5 ELPJDX 🗳️ výběr z možností</p>	<p>Vypočítej 22,2 . 4 = __ Vypočítej 25,3 . 1 = __</p>	
	<p>Násobení des. číslem Dvojciferným přirozeným číslem (xx, x . x) ≡ 10 otázek ⌚ 7 min 🏆 obtížnost 5 RBLAJE 🗳️ výběr z možností</p>	<p>Vypočítej 36,5 . 9 = __ Vypočítej 34,1 . 6 = __</p>	
	<p>Násobení des. číslem Dvojciferným přirozeným číslem (xx, x . x) ≡ 20 otázek ⌚ 7 min 🏆 obtížnost 5 LABVXS 🗳️ výběr z možností</p>	<p>Vypočítej 22,5 . 7 = __ Vypočítej 45,2 . 3 = __</p>	
	<p>Dělení des. číslem Jednociferným přirozeným číslem (x, x : x) ≡ 10 otázek ⌚ 7 min 🏆 obtížnost 5 HUNCVD 🗳️ výběr z možností</p>	<p>Vypočítej 9,8 : 7 = __ Vypočítej 9,9 : 3 = __</p>	
	<p>Dělení des. číslem Jednociferným přirozeným číslem (x, x : x) ≡ 10 otázek ⌚ 7 min 🏆 obtížnost 5 JLUECT 🗳️ výběr z možností</p>	<p>Vypočítej 7,7 : 7 = __ Vypočítej 9,8 : 7 = __</p>	
	<p>Dělení des. číslem Jednociferným přirozeným číslem (xx, x : x) ≡ 10 otázek ⌚ 7 min 🏆 obtížnost 5 GULREB 🗳️ výběr z možností</p>	<p>Vypočítej 46,5 : 5 = __ Vypočítej 51,6 : 6 = __</p>	
	<p>Dělení des. číslem Jednociferným přirozeným číslem (xx, x : x) ≡ 10 otázek ⌚ 7 min 🏆 obtížnost 5 VADTRN 🗳️ výběr z možností</p>	<p>Vypočítej 18,4 : 4 = __ Vypočítej 51,6 : 6 = __</p>	
	<p>Dělení des. číslem Výsledek je jednociferné číslo (x, x : x, x) ≡ 10 otázek ⌚ 7 min 🏆 obtížnost 5 DULGTC 🗳️ výběr z možností</p>	<p>Vypočítej 16,5 : 3,3 = __ Vypočítej 5,6 : 2,8 = __</p>	
	<p>Dělení des. číslem Výsledek je jednociferné číslo (x, x : x, x) ≡ 20 otázek ⌚ 7 min 🏆 obtížnost 5 ALCHGS 🗳️ výběr z možností</p>	<p>Vypočítej 10,8 : 2,7 = __ Vypočítej 9,6 : 2,4 = __</p>	

**Dělení des. číslem**

Výsledek je jednocíferné číslo (x:x:x,x)

≡ 10 otázek ⌚ 7 min 🏃 obtížnost 5

EJSPHV ⇨ výběr z možností

Vypočítej

17,2 : 4,3 = __

Vypočítej

4,8 : 1,2 = __

Dělení des. číslem

Výsledek je jednocíferné číslo (x:x:x,x)

≡ 20 otázek ⌚ 7 min 🏃 obtížnost 5

KJELPA ⇨ výběr z možností

Vypočítej

16,5 : 3,3 = __

Vypočítej

5,2 : 2,6 = __

**Dělení des. číslem**

Výsledek je desetinné číslo (xx:x=x,x)

≡ 10 otázek ⌚ 7 min 🏃 obtížnost 5

LFCBNA ⇨ výběr z možností

Vypočítej

9 : 6 = __

Vypočítej

36 : 8 = __

Dělení des. číslem

Výsledek je desetinné číslo (xx:x=x,x)

≡ 20 otázek ⌚ 10 min 🏃 obtížnost 5

PCANBE ⇨ výběr z možností

Vypočítej

50 : 4 = __

Vypočítej

52 : 8 = __

**Dělení des. číslem**

Výsledek je desetinné číslo (xx:x=x,x)

≡ 10 otázek ⌚ 7 min 🏃 obtížnost 5

VCEUNA ⇨ výběr z možností

Vypočítej

9 : 5 = __

Vypočítej

44 : 8 = __

Dělení des. číslem

Výsledek je desetinné číslo (xx:x=x,x)

≡ 20 otázek ⌚ 10 min 🏃 obtížnost 5

UBVLXE ⇨ výběr z možností

Vypočítej

5 : 2 = __

Vypočítej

45 : 6 = __

**Aritmetický průměr ze 2 hodnot**

Průměrná hodnota ze 2 hodnot (desetinná čísla, jedno desetinné číslo)

≡ 10 otázek ⌚ 10 min 🏃 obtížnost 5

JKHNLC ⇨ výběr z možností

Vypočítej průměr dvou čísel

1. hodnota: 27,2, 2. hodnota: 35,4

Vypočítej průměr dvou čísel

1. hodnota: 45,4, 2. hodnota: 33,6

Aritmetický průměr ze 2 hodnot

Průměrná hodnota ze 2 hodnot (desetinná čísla, jedno desetinné číslo)

≡ 10 otázek ⌚ 10 min 🏃 obtížnost 5

MEPVCB ⇨ zadání hodnoty

Vypočítej průměr dvou čísel

1. hodnota: 26,5, 2. hodnota: 26,7

Vypočítej průměr dvou čísel

1. hodnota: 18,5, 2. hodnota: 14,3

**Aritmetický průměr ze 3 hodnot**

Průměrná hodnota ze 2 hodnot (desetinná čísla, jedno desetinné číslo)

≡ 10 otázek ⌚ 10 min 🏃 obtížnost 5

BALCHR ⇨ výběr z možností

Vypočítej průměr ze 3 čísel

1. hodnota: 45,6, 2. hodnota: 52, 3. hodnota: 35,3

Vypočítej průměr ze 3 čísel

1. hodnota: 15,3, 2. hodnota: 66,9, 3. hodnota: 31,5

Aritmetický průměr ze 3 hodnot

Průměrná hodnota ze 2 hodnot (desetinná čísla, jedno desetinné číslo)

≡ 10 otázek ⌚ 10 min 🏃 obtížnost 5

KUBEXT ⇨ zadání hodnoty

Vypočítej průměr ze 3 čísel

1. hodnota: 32,5, 2. hodnota: 41,5, 3. hodnota: 28,9

Vypočítej průměr ze 3 čísel

1. hodnota: 22,4, 2. hodnota: 33,4, 3. hodnota: 18,9

