












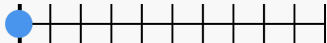




QR	Cvičení	Ukázka	QR
	<p>Doplnění do řady do 100 (10) Doplnění čísla (řada 0 ... 100, krok po 10) ≡ 10 otázek ⌚ 3 min 🏆 obtížnost 2</p> <p>TVXSGE ⇒ výběr z možností</p>	<p>Doplň správné číslo do řady čísel 30 - 40 - ___ - 60</p>	
	<p>Doplnění do řady do 100 (10) Doplnění čísla (řada 0 ... 100, krok po 10) ≡ 15 otázek ⌚ 4 min 🏆 obtížnost 2</p> <p>GCXELV ⇒ výběr z možností</p>	<p>Doplň správné číslo do řady čísel 80 - 90 - __</p>	
	<p>Doplnění do řady do 100 (10) Doplnění čísla (řada 0 ... 100, krok po 10) ≡ 10 otázek ⌚ 3 min 🏆 obtížnost 2</p> <p>HDSABC ⇒ zadání hodnoty</p>	<p>Doplň správné číslo do řady čísel 10 - 20 - ___ - 40</p>	
	<p>Doplnění do řady do 100 (10) Doplnění čísla (řada 0 ... 100, krok po 10) ≡ 15 otázek ⌚ 4 min 🏆 obtížnost 2</p> <p>PLKAND ⇒ zadání hodnoty</p>	<p>Doplň správné číslo do řady čísel 70 - ___ - 90</p>	
	<p>Doplnění do řady do 100 (1) Doplnění čísla (řada 0 ... 100, krok po 1) ≡ 10 otázek ⌚ 3 min 🏆 obtížnost 2</p> <p>LCAPEB ⇒ výběr z možností</p>	<p>Doplň správné číslo do řady čísel 33 - 34 - ___ - 36</p>	
	<p>Doplnění do řady do 100 (1) Doplnění čísla (řada 0 ... 100, krok po 1) ≡ 15 otázek ⌚ 4 min 🏆 obtížnost 2</p> <p>BSNJAC ⇒ výběr z možností</p>	<p>Doplň správné číslo do řady čísel 95 - 96 - ___ - 98</p>	
	<p>Doplnění do řady do 100 (1) Doplnění čísla (řada 0 ... 100, krok po 1) ≡ 10 otázek ⌚ 3 min 🏆 obtížnost 2</p> <p>NEGFUS ⇒ zadání hodnoty</p>	<p>Doplň správné číslo do řady čísel 59 - 60 - ___ - 62</p>	
	<p>Doplnění do řady do 100 (1) Doplnění čísla (řada 0 ... 100, krok po 1) ≡ 15 otázek ⌚ 4 min 🏆 obtížnost 2</p> <p>CAUVLR ⇒ zadání hodnoty</p>	<p>Doplň správné číslo do řady čísel 52 - 53 - 54 - __</p>	
	<p>Doplnění do řady od 100 (10) Doplnění čísla do sestupné řady (100 ... 0, krok po 10) ≡ 10 otázek ⌚ 5 min 🏆 obtížnost 2</p> <p>SVKCEH ⇒ výběr z možností</p>	<p>Doplň správné číslo do řady čísel 50 - 40 - ___ - 20</p>	
	<p>Doplnění do řady od 100 (10) Doplnění čísla do sestupné řady (100 ... 0, krok po 10) ≡ 10 otázek ⌚ 5 min 🏆 obtížnost 2</p> <p>ECLSHA ⇒ zadání hodnoty</p>	<p>Doplň správné číslo do řady čísel 100 - 90 - ___ - 70</p>	
	<p>Doplnění do řady od 100 (1) Doplnění čísla do sestupné řady (100 ... 0, krok po 1) ≡ 10 otázek ⌚ 5 min 🏆 obtížnost 2</p> <p>AEPSDH ⇒ výběr z možností</p>	<p>Doplň správné číslo do řady čísel 99 - 98 - ___ - 96</p>	
	<p>Doplnění do řady od 100 (1) Doplnění čísla do sestupné řady (100 ... 0, krok po 1) ≡ 10 otázek ⌚ 5 min 🏆 obtížnost 2</p> <p>ARJSCK ⇒ zadání hodnoty</p>	<p>Doplň správné číslo do řady čísel 61 - 60 - __</p>	
	<p>Číselná osa do 100 Orientace na číselné ose (do 100, 11 dílků osy, vždy od celé 10, skok 1, vzestupně) ≡ 10 otázek ⌚ 5 min 🏆 obtížnost 2</p> <p>CARGVE ⇒ číselná osa</p>	<p>Kde se na číselné ose nachází číslo 56</p> 	
	<p>Číselná osa do 100 Orientace na číselné ose (do 100, 11 dílků osy, vždy od celé 10, skok 1, vzestupně) ≡ 15 otázek ⌚ 5 min 🏆 obtížnost 2</p> <p>RETHCK ⇒ číselná osa</p>	<p>Kde se na číselné ose nachází číslo 25</p> 	



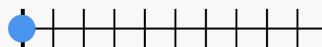
Číselná osa do 100

Orientace na číselné ose (do 100, 11 dílků osy, skok 1, vzestupně)

≡ 10 otázek ⌚ 5 min 🏃 obtížnost 2

TVGPHL ⇨ číselná osa

Kde se na číselné ose nachází číslo 24



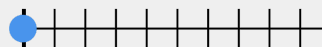
Číselná osa do 100

Orientace na číselné ose (do 100, 11 dílků osy, skok 1, vzestupně)

≡ 15 otázek ⌚ 5 min 🏃 obtížnost 2

GTHLUP ⇨ číselná osa

Kde se na číselné ose nachází číslo 41



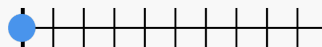
Číselná osa do 100

Orientace na číselné ose (do 100, 11 dílků osy, různé skoky, vzestupně)

≡ 10 otázek ⌚ 5 min 🏃 obtížnost 2

HDPBKE ⇨ číselná osa

Kde se na číselné ose nachází číslo 33




Číselná osa do 100

Orientace na číselné ose (do 100, 11 dílků osy, různé skoky, vzestupně)

≡ 15 otázek ⌚ 5 min 🏃 obtížnost 2

PCVNBG ⇨ číselná osa

Kde se na číselné ose nachází číslo 26



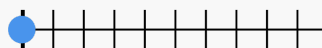
Číselná osa do 100

Orientace na číselné ose (do 100, 11 dílků osy, skoky desítky, vzestupně)

≡ 10 otázek ⌚ 5 min 🏃 obtížnost 2

LCBFPH ⇨ číselná osa

Kde se na číselné ose nachází číslo 90




Číselná osa do 100

Orientace na číselné ose (do 100, 11 dílků osy, skoky desítky, vzestupně)

≡ 15 otázek ⌚ 5 min 🏃 obtížnost 2

BUNSJP ⇨ číselná osa

Kde se na číselné ose nachází číslo 40




Číselná osa, do 100 (jednotky)

Orientace na číselné ose, do 100 (jednotky)

≡ 10 otázek ⌚ 4 min 🏃 obtížnost 2

LHSPJV ⇨ číselná osa

Kde se na číselné ose nachází číslo 84




Číselná osa, do 100 (jednotky)

Orientace na číselné ose, do 100 (jednotky)

≡ 15 otázek ⌚ 4 min 🏃 obtížnost 2

ALPNKS ⇨ číselná osa

Kde se na číselné ose nachází číslo 43



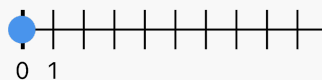
Číselná osa, do 100 (desítky)

Orientace na číselné ose, do 100 (desítky)

≡ 5 otázek ⌚ 4 min 🏃 obtížnost 2

GPELKC ⇨ číselná osa

Kde se na číselné ose nachází číslo 0



Součet do 100

Sčítání do 100, jen desítky

≡ 10 otázek ⌚ ∞ min 🏃 obtížnost 2

LDANGJ ⇨ výber z možností

Vypočítej správně

$$0 + 90$$

Vypočítej správně

$$0 + 50$$



Součet do 100

Sčítání do 100, jen desítky

≡ 10 otázek ⌚ ∞ min 🏃 obtížnost 2

PGVBAJ ⇨ zadání hodnoty

Vypočítej správně

$$10 + 20$$

Vypočítej správně

$$50 + 50$$

Součet do 100

Sčítání do 100, jen desítky

≡ 10 otázek ⌚ ∞ min 🏃 obtížnost 2

JHCVGE ⇨ výber z možností

Vypočítej správně

$$50 + 20$$

Vypočítej správně

$$0 + 10$$



Součet do 100

Sčítání do 100, jen desítky

≡ 10 otázek ⌚ ∞ min 🏃 obtížnost 2

CJFLVT ⇨ zadání hodnoty

Vypočítej správně

$$10 + 70$$

Vypočítej správně

$$20 + 10$$

Rozdíl do 100

Odčítání do 100, jen desítky

≡ 10 otázek ⌚ ∞ min 🏃 obtížnost 2

HKEJCU ⇨ výber z možností

Vypočítej správně

$$90 - 30$$

Vypočítej správně

$$60 - 30$$



Rozdíl do 100

Odčítání do 100, jen desítky

≡ 10 otázek ⌚ ∞ min 🏃 obtížnost 2












ULAJEP ⇨ zadání hodnoty







Vypočítej správně
















$$80 - 50$$

Vypočítej správně

$$90 - 40$$

	Rozdíl do 100 Odčítání do 100, jen desítky ≡ 10 otázek ⌚ ∞ min 🏃 obtížnost 2 KMUESA 🎲 výběr z možností	Vypočítej správně 60 - 60 Vypočítej správně 70 - 0	
	Rozdíl do 100 Odčítání do 100, jen desítky ≡ 10 otázek ⌚ ∞ min 🏃 obtížnost 2 LNAJDS ⇐ zadání hodnoty	Vypočítej správně 70 - 20 Vypočítej správně 40 - 10	
	Součet a rozdíl do 100 Sčítání a odčítání do 100, jen desítky ≡ 10 otázek ⌚ ∞ min 🏃 obtížnost 2 PBEUFD 🎲 výběr z možností	Vypočítej správně 70 + 30 Vypočítej správně 10 + 40	
	Součet a rozdíl do 100 Sčítání a odčítání do 100, jen desítky ≡ 10 otázek ⌚ ∞ min 🏃 obtížnost 2 JVAPBU ⇐ zadání hodnoty	Vypočítej správně 40 - 20 Vypočítej správně 70 - 30	
	Součet a rozdíl do 100 Sčítání a odčítání do 100, jen desítky ≡ 10 otázek ⌚ ∞ min 🏃 obtížnost 2 NKUAJX 🎲 výběr z možností	Vypočítej správně 60 - 60 Vypočítej správně 20 - 10	
	Součet a rozdíl do 100 Sčítání a odčítání do 100, jen desítky ≡ 10 otázek ⌚ ∞ min 🏃 obtížnost 2 VLBARC ⇐ zadání hodnoty	Vypočítej správně 30 - 10 Vypočítej správně 10 + 80	
	Součet do 100 Sčítání do 100 bez přechodu ≡ 10 otázek ⌚ ∞ min 🏃 obtížnost 2 CPJDAS 🎲 výběr z možností	Vypočítej správně 3 + 63 Vypočítej správně 8 + 31	
	Součet do 100 Sčítání do 100 bez přechodu ≡ 10 otázek ⌚ ∞ min 🏃 obtížnost 2 HJNBAE ⇐ zadání hodnoty	Vypočítej správně 16 + 2 Vypočítej správně 33 + 2	
	Součet do 100 Sčítání do 100 bez přechodu ≡ 10 otázek ⌚ ∞ min 🏃 obtížnost 2 USENPA 🎲 výběr z možností	Vypočítej správně 4 + 44 Vypočítej správně 42 + 0	
	Součet do 100 Sčítání do 100 bez přechodu ≡ 10 otázek ⌚ ∞ min 🏃 obtížnost 2 KVJCNA ⇐ zadání hodnoty	Vypočítej správně 8 + 31 Vypočítej správně 2 + 86	
	Rozdíl do 100 Odčítání do 100 bez přechodu ≡ 10 otázek ⌚ ∞ min 🏃 obtížnost 2 LCUSVE 🎲 výběr z možností	Vypočítej správně 88 - 4 Vypočítej správně 84 - 2	
	Rozdíl do 100 Odčítání do 100 bez přechodu ≡ 10 otázek ⌚ ∞ min 🏃 obtížnost 2 PHLECN ⇐ zadání hodnoty	Vypočítej správně 18 - 3 Vypočítej správně 69 - 8	
	Rozdíl do 100 Odčítání do 100 bez přechodu ≡ 10 otázek ⌚ ∞ min 🏃 obtížnost 2 JUEAHV 🎲 výběr z možností	Vypočítej správně 26 - 2 Vypočítej správně 37 - 5	
	Rozdíl do 100 Odčítání do 100 bez přechodu ≡ 10 otázek ⌚ ∞ min 🏃 obtížnost 2 AKXBUC ⇐ zadání hodnoty	Vypočítej správně 88 - 4 Vypočítej správně 79 - 2	
	Součet a rozdíl do 100 Sčítání a odčítání do 100 bez přechodu ≡ 20 otázek ⌚ ∞ min 🏃 obtížnost 2 SLUEKH 🎲 výběr z možností	Vypočítej správně 2 + 29 Vypočítej správně 34 + 0	

	<p>Součet a rozdíl do 100 Sčítání a odčítání do 100 bez přechodu ≡ 20 otázek ⌚ ∞ min 🏆 obtížnost 2</p> <p>DPAVLU ⇨ zadání hodnoty</p>	<p>Vypočítej správně 35 + 3</p> <p>Vypočítej správně 89 - 1</p>	
	<p>Součet a rozdíl do 100 Sčítání a odčítání do 100 bez přechodu ≡ 20 otázek ⌚ ∞ min 🏆 obtížnost 2</p> <p>FJCEPK ⇨ výběr z možností</p>	<p>Vypočítej správně 25 + 1</p> <p>Vypočítej správně 23 + 6</p>	
	<p>Součet a rozdíl do 100 Sčítání a odčítání do 100 bez přechodu ≡ 20 otázek ⌚ ∞ min 🏆 obtížnost 2</p> <p>BNADJL ⇨ zadání hodnoty</p>	<p>Vypočítej správně 70 + 7</p> <p>Vypočítej správně 79 - 2</p>	
	<p>Součet do 100 Sčítání do 100 s přechodem 1 desítky ≡ 10 otázek ⌚ ∞ min 🏆 obtížnost 2</p> <p>JVULSP ⇨ výběr z možností</p>	<p>Vypočítej správně 35 + 9</p> <p>Vypočítej správně 26 + 9</p>	
	<p>Součet do 100 Sčítání do 100 s přechodem 1 desítky ≡ 10 otázek ⌚ ∞ min 🏆 obtížnost 2</p> <p>LCAKDJ ⇨ zadání hodnoty</p>	<p>Vypočítej správně 62 + 9</p> <p>Vypočítej správně 7 + 75</p>	
	<p>Součet do 100 Sčítání do 100 s přechodem 1 desítky ≡ 10 otázek ⌚ ∞ min 🏆 obtížnost 2</p> <p>AHEUDJ ⇨ výběr z možností</p>	<p>Vypočítej správně 7 + 75</p> <p>Vypočítej správně 84 + 8</p>	
	<p>Součet do 100 Sčítání do 100 s přechodem 1 desítky ≡ 10 otázek ⌚ ∞ min 🏆 obtížnost 2</p> <p>AUPKGN ⇨ zadání hodnoty</p>	<p>Vypočítej správně 6 + 57</p> <p>Vypočítej správně 77 + 5</p>	
	<p>Rozdíl do 100 Odčítání do 100 s přechodem 1 desítky ≡ 10 otázek ⌚ ∞ min 🏆 obtížnost 2</p> <p>UKTLHV ⇨ výběr z možností</p>	<p>Vypočítej správně 54 - 5</p> <p>Vypočítej správně 23 - 3</p>	
	<p>Rozdíl do 100 Odčítání do 100 s přechodem 1 desítky ≡ 10 otázek ⌚ ∞ min 🏆 obtížnost 2</p> <p>LERPJC ⇨ zadání hodnoty</p>	<p>Vypočítej správně 31 - 3</p> <p>Vypočítej správně 41 - 3</p>	
	<p>Rozdíl do 100 Odčítání do 100 s přechodem 1 desítky ≡ 10 otázek ⌚ ∞ min 🏆 obtížnost 2</p> <p>PANJKH ⇨ výběr z možností</p>	<p>Vypočítej správně 68 - 9</p> <p>Vypočítej správně 61 - 2</p>	
	<p>Rozdíl do 100 Odčítání do 100 s přechodem 1 desítky ≡ 10 otázek ⌚ ∞ min 🏆 obtížnost 2</p> <p>SEJNLU ⇨ zadání hodnoty</p>	<p>Vypočítej správně 21 - 2</p> <p>Vypočítej správně 57 - 8</p>	
	<p>Součet a rozdíl do 100 Sčítání a odčítání do 100 s přechodem 1 desítky ≡ 20 otázek ⌚ ∞ min 🏆 obtížnost 2</p> <p>NXEVMK ⇨ výběr z možností</p>	<p>Vypočítej správně 73 - 7</p> <p>Vypočítej správně 92 - 4</p>	
	<p>Součet a rozdíl do 100 Sčítání a odčítání do 100 s přechodem 1 desítky ≡ 30 otázek ⌚ ∞ min 🏆 obtížnost 2</p> <p>AVJCNL ⇨ výběr z možností</p>	<p>Vypočítej správně 82 + 9</p> <p>Vypočítej správně 26 - 7</p>	
	<p>Součet a rozdíl do 100 Sčítání a odčítání do 100 s přechodem 1 desítky ≡ 20 otázek ⌚ ∞ min 🏆 obtížnost 2</p> <p>CPEHBS ⇨ zadání hodnoty</p>	<p>Vypočítej správně 57 - 8</p> <p>Vypočítej správně 7 + 24</p>	
	<p>Součet a rozdíl do 100 Sčítání a odčítání do 100 s přechodem 1 desítky ≡ 20 otázek ⌚ ∞ min 🏆 obtížnost 2</p> <p>USPKAN ⇨ výběr z možností</p>	<p>Vypočítej správně 81 - 7</p> <p>Vypočítej správně 8 + 25</p>	

<p>Součet a rozdíl do 100 Sčítání a odčítání do 100 s přechodem 1 desítky ≡ 30 otázek ⌚ ∞ min 🏆 obtížnost 2 HBUJVT ⇨ zadání hodnoty</p>	<p>Vypočítej správně 7 + 86 Vypočítej správně 52 + 9</p>	
<p> Součet a rozdíl do 100 Sčítání a odčítání do 100 s přechodem 1 desítky ≡ 30 otázek ⌚ ∞ min 🏆 obtížnost 2 KCALBV ⇨ výber z možností</p>	<p>Vypočítej správně 57 + 6 Vypočítej správně 86 + 7</p>	
<p>Součet a rozdíl do 100 Sčítání a odčítání do 100 s přechodem 1 desítky ≡ 20 otázek ⌚ ∞ min 🏆 obtížnost 2 LSAPNC ⇨ zadání hodnoty</p>	<p>Vypočítej správně 56 - 9 Vypočítej správně 9 + 43</p>	
<p> Součet a rozdíl do 100 Sčítání a odčítání do 100 s přechodem 1 desítky ≡ 30 otázek ⌚ ∞ min 🏆 obtížnost 2 PEDJCH ⇨ zadání hodnoty</p>	<p>Vypočítej správně 72 - 9 Vypočítej správně 9 + 22</p>	
<p>Součet do 100 Sčítání do 100 (komplet) ≡ 10 otázek ⌚ ∞ min 🏆 obtížnost 2 JABNSU ⇨ výber z možností</p>	<p>Vypočítej správně 3 + 91 Vypočítej správně 50 + 41</p>	
<p> Součet do 100 Sčítání do 100 (komplet) ≡ 10 otázek ⌚ ∞ min 🏆 obtížnost 2 NASVEK ⇨ zadání hodnoty</p>	<p>Vypočítej správně 54 + 9 Vypočítej správně 21 + 51</p>	
<p>Součet do 100 Sčítání do 100 (komplet) ≡ 10 otázek ⌚ ∞ min 🏆 obtížnost 2 VEDCAL ⇨ výber z možností</p>	<p>Vypočítej správně 10 + 76 Vypočítej správně 30 + 51</p>	
<p> Součet do 100 Sčítání do 100 (komplet) ≡ 10 otázek ⌚ ∞ min 🏆 obtížnost 2 CVFHAP ⇨ zadání hodnoty</p>	<p>Vypočítej správně 8 + 23 Vypočítej správně 44 + 32</p>	
<p>Rozdíl do 100 Odčítání do 100 (komplet) ≡ 10 otázek ⌚ ∞ min 🏆 obtížnost 2 HCBUEJ ⇨ výber z možností</p>	<p>Vypočítej správně 64 - 53 Vypočítej správně 18 - 13</p>	
<p> Rozdíl do 100 Odčítání do 100 (komplet) ≡ 10 otázek ⌚ ∞ min 🏆 obtížnost 2 UDJKVN ⇨ zadání hodnoty</p>	<p>Vypočítej správně 92 - 89 Vypočítej správně 63 - 19</p>	
<p>Rozdíl do 100 Odčítání do 100 (komplet) ≡ 10 otázek ⌚ ∞ min 🏆 obtížnost 2 KASLCV ⇨ výber z možností</p>	<p>Vypočítej správně 41 - 38 Vypočítej správně 64 - 53</p>	
<p> Rozdíl do 100 Odčítání do 100 (komplet) ≡ 10 otázek ⌚ ∞ min 🏆 obtížnost 2 BLAPDC ⇨ zadání hodnoty</p>	<p>Vypočítej správně 34 - 14 Vypočítej správně 71 - 19</p>	
<p>Součet a rozdíl do 100 Sčítání a odčítání do 100 (komplet) ≡ 20 otázek ⌚ ∞ min 🏆 obtížnost 2 PTEJLA ⇨ výber z možností</p>	<p>Vypočítej správně 65 - 8 Vypočítej správně 39 + 30</p>	
<p> Součet a rozdíl do 100 Sčítání a odčítání do 100 (komplet) ≡ 30 otázek ⌚ ∞ min 🏆 obtížnost 2 JURTLS ⇨ výber z možností</p>	<p>Vypočítej správně 96 - 7 Vypočítej správně 70 + 18</p>	
<p>Součet a rozdíl do 100 Sčítání a odčítání do 100 (komplet) ≡ 20 otázek ⌚ ∞ min 🏆 obtížnost 2 NLAKHD ⇨ zadání hodnoty</p>	<p>Vypočítej správně 67 + 1 Vypočítej správně 17 + 72</p>	

**Součet a rozdíl do 100**

Sčítání a odčítání do 100 (komplet)

≡ 20 otázek ⌚ ∞ min 🏆 obtížnost 2

CADPKB 🗨️ výběr z možností

Vypočítej správně

47 + 50

Vypočítej správně

97 - 49

Součet a rozdíl do 100

Sčítání a odčítání do 100 (komplet)

≡ 30 otázek ⌚ ∞ min 🏆 obtížnost 2

VESLUF ➡ zadání hodnoty

Vypočítej správně

82 - 15

Vypočítej správně

49 + 48

**Součet a rozdíl do 100**

Sčítání a odčítání do 100 (komplet)

≡ 20 otázek ⌚ ∞ min 🏆 obtížnost 2

PEBNAL ➡ zadání hodnoty

Vypočítej správně

11 + 49

Vypočítej správně

16 + 13

Součet a rozdíl do 100

Sčítání a odčítání do 100 (komplet)

≡ 30 otázek ⌚ ∞ min 🏆 obtížnost 2

MUFNLJ 🗨️ výběr z možností

Vypočítej správně

83 - 11

Vypočítej správně

69 - 18

**Součet a rozdíl do 100**

Sčítání a odčítání do 100 (komplet)

≡ 30 otázek ⌚ ∞ min 🏆 obtížnost 2

AEJVPT ➡ zadání hodnoty

Vypočítej správně

51 - 41

Vypočítej správně

75 - 33

Součet a rozdíl do 100 - l

Sčítání a odčítání do 100 s použitím jednotky l (litr)

≡ 10 otázek ⌚ 5 min 🏆 obtížnost 2

ALCNSU 🗨️ výběr z možností

Vypočítej správně

59 l - 4 l

Vypočítej správně

9 l - 54 l

**Součet a rozdíl do 100 - l**

Sčítání a odčítání do 100 s použitím jednotky l (litr)

≡ 20 otázek ⌚ 5 min 🏆 obtížnost 2

UEHCPL 🗨️ výběr z možností

Vypočítej správně

52 l + 15 l

Vypočítej správně

82 l + 3 l

Součet a rozdíl do 100 - kg

Sčítání a odčítání do 100 s použitím jednotky kg (kilogram)

≡ 10 otázek ⌚ 5 min 🏆 obtížnost 2

XSUTLE 🗨️ výběr z možností

Vypočítej správně

22 kg + 34 kg

Vypočítej správně

62 kg + 17 kg

**Součet a rozdíl do 100 - kg**

Sčítání a odčítání do 100 s použitím jednotky kg (kilogram)

≡ 20 otázek ⌚ 5 min 🏆 obtížnost 2

ESKTBA 🗨️ výběr z možností

Vypočítej správně

45 kg + 12 kg

Vypočítej správně

86 kg - 58 kg

Součet a rozdíl do 100 - m

Sčítání a odčítání do 100 s použitím jednotky m (metr)

≡ 10 otázek ⌚ 5 min 🏆 obtížnost 2

AXLFNU 🗨️ výběr z možností

Vypočítej správně

3 m + 44 m

Vypočítej správně

96 m - 34 m

**Součet a rozdíl do 100 - m**

Sčítání a odčítání do 100 s použitím jednotky m (metr)

≡ 20 otázek ⌚ 5 min 🏆 obtížnost 2

UBFACL 🗨️ výběr z možností

Vypočítej správně

18 m + 19 m

Vypočítej správně

29 m + 41 m

Součet a rozdíl do 100 - g, kg, t

Sčítání a odčítání do 100 s použitím jednotek pro hmotnost (g, kg, t)

≡ 10 otázek ⌚ 5 min 🏆 obtížnost 2

LFNKSE 🗨️ výběr z možností

Vypočítej správně

42 t - 21 t

Vypočítej správně

95 kg - 90 kg

**Součet a rozdíl do 100 - g, kg, t**

Sčítání a odčítání do 100 s použitím jednotek pro hmotnost (g, kg, t)

≡ 20 otázek ⌚ 5 min 🏆 obtížnost 2

ECKVLA 🗨️ výběr z možností

Vypočítej správně

78 g - 60 g

Vypočítej správně

76 t - 0 t

Součet a rozdíl do 100 - mm, cm, m

Sčítání a odčítání do 100 s použitím jednotek pro vzdálenost (mm, cm, m, km)

≡ 10 otázek ⌚ 5 min 🏆 obtížnost 2

GSACLU 🗨️ výběr z možností

Vypočítej správně

80 cm - 10 cm

Vypočítej správně

21 cm - 21 cm

**Součet a rozdíl do 100 - mm, cm, m**

Sčítání a odčítání do 100 s použitím jednotek pro vzdálenost (mm, cm, m, km)

≡ 20 otázek ⌚ 5 min 🏆 obtížnost 2

UEGDAL 🗨️ výběr z možností

Vypočítej správně

57 cm - 34 cm

Vypočítej správně

73 m + 6 m

	<p>Součet a rozdíl do 100 Sčítání a odčítání do 100 (komplet) ≡ 30 otázek ⌚ 7 min 📊 obtížnost 2 JALCSN ⇨ výběr z možností</p>	<p>Vypočítej správně 30 + 4 Vypočítej správně 56 + 42</p>	
	<p>Součet a rozdíl do 100 Sčítání a odčítání do 100 (komplet) ≡ 20 otázek ⌚ 7 min 📊 obtížnost 2 JURNEV ⇨ zadání hodnoty</p>	<p>Vypočítej správně 98 + 0 Vypočítej správně 83 - 56</p>	
	<p>Součet a rozdíl do 100 Sčítání a odčítání do 100 (komplet) ≡ 30 otázek ⌚ 7 min 📊 obtížnost 2 ELTCAP ⇨ zadání hodnoty</p>	<p>Vypočítej správně 8 + 31 Vypočítej správně 89 - 11</p>	
	<p>Součet a rozdíl do 100 Sčítání a odčítání do 100 (komplet) ≡ 20 otázek ⌚ 7 min 📊 obtížnost 2 LHNAPU ⇨ výběr z možností</p>	<p>Vypočítej správně 22 + 50 Vypočítej správně 73 - 39</p>	
	<p>Součet a rozdíl do 100 Sčítání a odčítání do 100 (komplet) ≡ 20 otázek ⌚ 7 min 📊 obtížnost 2 ALSDBC ⇨ zadání hodnoty</p>	<p>Vypočítej správně 98 - 43 Vypočítej správně 49 - 30</p>	
	<p>Součet a rozdíl do 100 Sčítání a odčítání do 100 (komplet) ≡ 30 otázek ⌚ 7 min 📊 obtížnost 2 EPKALT ⇨ výběr z možností</p>	<p>Vypočítej správně 19 + 15 Vypočítej správně 74 - 69</p>	
	<p>Součet a rozdíl do 100 Sčítání a odčítání do 100 (komplet) ≡ 20 otázek ⌚ 7 min 📊 obtížnost 2 LNJSCK ⇨ výběr z možností</p>	<p>Vypočítej správně 79 - 33 Vypočítej správně 100 - 76</p>	
	<p>Součet a rozdíl do 100 Sčítání a odčítání do 100 (komplet) ≡ 30 otázek ⌚ 7 min 📊 obtížnost 2 UBPANE ⇨ zadání hodnoty</p>	<p>Vypočítej správně 22 + 50 Vypočítej správně 74 - 69</p>	
	<p>Součet a rozdíl 3 čísel Sčítání a odčítání 3 čísel ≡ 15 otázek ⌚ 10 min 📊 obtížnost 2 CELJHB ⇨ výběr z možností</p>	<p>Vypočítej správně 3 + 8 - 2 Vypočítej správně 72 - 53 + 17</p>	
	<p>Součet a rozdíl 3 čísel Sčítání a odčítání 3 čísel ≡ 25 otázek ⌚ 16,666666667 min 📊 obtížnost 2 VPEJUN ⇨ výběr z možností</p>	<p>Vypočítej správně 78 + 32 - 34 Vypočítej správně 38 - 29 + 68</p>	
	<p>Součet a rozdíl 3 čísel Sčítání a odčítání 3 čísel ≡ 15 otázek ⌚ 10 min 📊 obtížnost 2 CRAEKP ⇨ zadání hodnoty</p>	<p>Vypočítej správně 79 - 25 + 34 Vypočítej správně 44 + 17 - 10</p>	
	<p>Součet a rozdíl 3 čísel Sčítání a odčítání 3 čísel ≡ 25 otázek ⌚ 16,666666667 min 📊 obtížnost 2 DTUJHL ⇨ zadání hodnoty</p>	<p>Vypočítej správně 24 - 9 + 65 Vypočítej správně 27 + 38 - 33</p>	
	<p>Součet a rozdíl 3 čísel Sčítání a odčítání 3 čísel s použitím závorek ≡ 15 otázek ⌚ 10 min 📊 obtížnost 2 LGFEUP ⇨ výběr z možností</p>	<p>Vypočítej správně 5 + (12 - 6) Vypočítej správně 94 - (22 + 72)</p>	
	<p>Součet a rozdíl 3 čísel Sčítání a odčítání 3 čísel s použitím závorek ≡ 25 otázek ⌚ 16,666666667 min 📊 obtížnost 2 CHELKJ ⇨ výběr z možností</p>	<p>Vypočítej správně 5 + (12 - 6) Vypočítej správně 34 + (46 - 23)</p>	
	<p>Součet a rozdíl 3 čísel Sčítání a odčítání 3 čísel s použitím závorek ≡ 15 otázek ⌚ 10 min 📊 obtížnost 2 HPAFLN ⇨ zadání hodnoty</p>	<p>Vypočítej správně (32 + 34) - 12 Vypočítej správně (21 + 7) - 13</p>	

	<p>Součet a rozdíl 3 čísel Sčítání a odčítání 3 čísel s použitím závorek ≡ 25 otázek ⌚ 16,666666667 min 🏃 obtížnost 2</p> <p>ULSJPV ⇨ zadání hodnoty</p>	<p>Vypočítej správně $(17 + 17) - 17$ Vypočítej správně $63 + (17 - 10)$</p>	
	<p>Součet a rozdíl 4 čísel Sčítání a odčítání 4 čísel ≡ 10 otázek ⌚ 5 min 🏃 obtížnost 2</p> <p>KBLNJC ⇨ výběr z možností</p>	<p>Vypočítej správně $23 + 19 + 17 + 4$ Vypočítej správně $75 - 17 + 29 + 8$</p>	
	<p>Součet a rozdíl 4 čísel Sčítání a odčítání 4 čísel ≡ 20 otázek ⌚ 5 min 🏃 obtížnost 2</p> <p>LNEVUH ⇨ výběr z možností</p>	<p>Vypočítej správně $17 + 56 - 35 + 28$ Vypočítej správně $36 + 53 - 42 + 17$</p>	
	<p>Součet a rozdíl 4 čísel Sčítání a odčítání 4 čísel ≡ 10 otázek ⌚ 5 min 🏃 obtížnost 2</p> <p>PCABVU ⇨ zadání hodnoty</p>	<p>Vypočítej správně $74 - 66 + 47 + 18$ Vypočítej správně $17 + 36 + 32 - 67$</p>	
	<p>Součet a rozdíl 4 čísel Sčítání a odčítání 4 čísel ≡ 20 otázek ⌚ 5 min 🏃 obtížnost 2</p> <p>JSUECK ⇨ zadání hodnoty</p>	<p>Vypočítej správně $74 - 66 + 47 + 18$ Vypočítej správně $100 - 27 + 35 - 18$</p>	
	<p>Součet a rozdíl 4 čísel Sčítání a odčítání 4 čísel s použitím závorek ≡ 10 otázek ⌚ 5 min 🏃 obtížnost 2</p> <p>NELRHS ⇨ výběr z možností</p>	<p>Vypočítej správně $97 - (76 + 18) - 2$ Vypočítej správně $78 - (17 + 3) - 46$</p>	
	<p>Součet a rozdíl 4 čísel Sčítání a odčítání 4 čísel s použitím závorek ≡ 10 otázek ⌚ 5 min 🏃 obtížnost 2</p> <p>CAFGKJ ⇨ zadání hodnoty</p>	<p>Vypočítej správně $83 - (27 + 26) - 7$ Vypočítej správně $74 - (18 + 17) - 19$</p>	
	<p>Součet a rozdíl 4 čísel Sčítání a odčítání 4 čísel s použitím závorek ≡ 20 otázek ⌚ 5 min 🏃 obtížnost 2</p> <p>VAETUP ⇨ výběr z možností</p>	<p>Vypočítej správně $29 + 22 - (9 + 18)$ Vypočítej správně $42 + 43 - (13 + 23)$</p>	
	<p>Součet a rozdíl 4 čísel Sčítání a odčítání 4 čísel s použitím závorek ≡ 20 otázek ⌚ 5 min 🏃 obtížnost 2</p> <p>HEUBLA ⇨ zadání hodnoty</p>	<p>Vypočítej správně $9 + (76 - 53) + 17$ Vypočítej správně $75 - (38 + 26) - 7$</p>	
	<p>Porovnávání čísel do 100 Porovnávání čísel do 100 (desítky) ≡ 10 otázek ⌚ 3 min 🏃 obtížnost 3</p> <p>CPASLN ⇨ výběr z možností</p>	<p>Zvol správný znak rovnosti či nerovnosti $30 _ _ 80$ Zvol správný znak rovnosti či nerovnosti $0 _ _ 20$</p>	
	<p>Porovnávání čísel do 100 Porovnávání čísel do 100 stejné jednotky ≡ 10 otázek ⌚ 3 min 🏃 obtížnost 3</p> <p>EJPVHC ⇨ výběr z možností</p>	<p>Zvol správný znak rovnosti či nerovnosti $35 _ _ 65$ Zvol správný znak rovnosti či nerovnosti $38 _ _ 68$</p>	
	<p>Porovnávání čísel do 100 ≡ 10 otázek ⌚ 3 min 🏃 obtížnost 3</p> <p>RNVLAS ⇨ výběr z možností</p>	<p>Zvol správný znak rovnosti či nerovnosti $79 _ _ 81$ Zvol správný znak rovnosti či nerovnosti $89 _ _ 87$</p>	
	<p>Liché & sudé do 100 Rozhodnutí, zda je číslo liché či sudé ≡ 15 otázek ⌚ 3 min 🏃 obtížnost 3</p> <p>CNLRGE ⇨ výběr z možností</p>	<p>Rozhodni se, zda je číslo liché nebo sudé 87 Rozhodni se, zda je číslo liché nebo sudé 89</p>	
	<p>Liché & sudé do 100 Rozhodnutí, zda je číslo liché či sudé ≡ 20 otázek ⌚ 3 min 🏃 obtížnost 3</p> <p>SRHLEV ⇨ výběr z možností</p>	<p>Rozhodni se, zda je číslo liché nebo sudé 103 Rozhodni se, zda je číslo liché nebo sudé 90</p>	
	<p>Aritmetický průměr ze 2 hodnot Průměrná hodnota ze 2 hodnot (základní) ≡ 10 otázek ⌚ 5 min 🏃 obtížnost 5</p> <p>LNJERA ⇨ výběr z možností</p>	<p>Vypočítej průměr dvou čísel 1. hodnota: 17, 2. hodnota: 27 Vypočítej průměr dvou čísel 1. hodnota: 18, 2. hodnota: 22</p>	

Aritmetický průměr ze 2 hodnot

Průměrná hodnota ze 2 hodnot (základní)

☰ 10 otázek ⌚ 5 min 📈 obtížnost 5

RFULEJ ⇒ zadání hodnoty

Vypočítej průměr dvou čísel

1. hodnota: 20, 2. hodnota: 16

Vypočítej průměr dvou čísel

1. hodnota: 23, 2. hodnota: 67

**Aritmetický průměr ze 3 hodnot**

Průměrná hodnota ze 3 hodnot (základní)

☰ 10 otázek ⌚ 7 min 📈 obtížnost 5

JATPUN ⇒ výber z možností

Vypočítej průměr ze 3 čísel

1. hodnota: 45, 2. hodnota: 16, 3. hodnota: 35

Vypočítej průměr ze 3 čísel

1. hodnota: 23, 2. hodnota: 14, 3. hodnota: 17

Aritmetický průměr ze 3 hodnot

Průměrná hodnota ze 3 hodnot (základní)

☰ 10 otázek ⌚ 7 min 📈 obtížnost 5

ESGJUV ⇒ zadání hodnoty

Vypočítej průměr ze 3 čísel

1. hodnota: 67, 2. hodnota: 36, 3. hodnota: 23

Vypočítej průměr ze 3 čísel

1. hodnota: 26, 2. hodnota: 30, 3. hodnota: 22

