






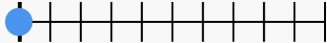
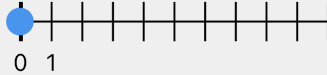


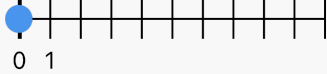
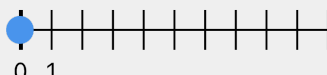



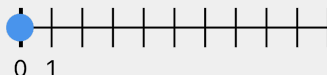


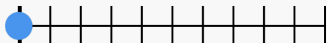


QR	Cvičení	Ukázka	QR
	<p><b>Doplnění do řady do 20</b> Doplnění čísla do řady (0...20) ≡ 10 otázek ⌚ 5 min 🏆 obtížnost 1</p> <p><b>CGVEBS</b> ⇨ výběr z možností</p>	<p>Doplň správné číslo do řady čísel 13 - 14 - ___ - 16</p>	
	<p><b>Doplnění do řady do 20</b> Doplnění čísla do řady (0...20) ≡ 15 otázek ⌚ 5 min 🏆 obtížnost 1</p> <p><b>SACBNE</b> ⇨ výběr z možností</p>	<p>Doplň správné číslo do řady čísel 11 - 12 - ___ - 14</p>	
	<p><b>Doplnění do řady do 20</b> Doplnění čísla do řady (0...20) ≡ 10 otázek ⌚ 5 min 🏆 obtížnost 1</p> <p><b>ETRNAU</b> ⇨ zadání hodnoty</p>	<p>Doplň správné číslo do řady čísel 17 - 18 - ___ - 20</p>	
	<p><b>Doplnění do řady do 20</b> Doplnění čísla do řady (0...20) ≡ 15 otázek ⌚ 5 min 🏆 obtížnost 1</p> <p><b>SERCLA</b> ⇨ zadání hodnoty</p>	<p>Doplň správné číslo do řady čísel 12 - ___ - 14</p>	
	<p><b>Doplnění do řady 20 .. 0</b> Doplnění čísla do sestupné řady (do 20) ≡ 10 otázek ⌚ 5 min 🏆 obtížnost 1</p> <p><b>NJBCF</b> ⇨ výběr z možností</p>	<p>Doplň správné číslo do řady čísel 20 - 18 - ___ - 16</p>	
	<p><b>Doplnění do řady 20 .. 0</b> Doplnění čísla do sestupné řady (do 20) ≡ 10 otázek ⌚ 5 min 🏆 obtížnost 1</p> <p><b>CNUBFS</b> ⇨ zadání hodnoty</p>	<p>Doplň správné číslo do řady čísel 19 - 18 - ___ - 16</p>	
	<p><b>Číselná osa do 20</b> Orientace na číselné ose (do 20, základní, skok 1, vzestupně) ≡ 10 otázek ⌚ 5 min 🏆 obtížnost 1</p> <p><b>NDEVPA</b> ⇨ číselná osa</p>	<p>Kde se na číselné ose nachází číslo 16</p> 	
	<p><b>Číselná osa do 20</b> Orientace na číselné ose (do 20, základní, skok 1, vzestupně) ≡ 15 otázek ⌚ 5 min 🏆 obtížnost 1</p> <p><b>ULACSP</b> ⇨ číselná osa</p>	<p>Kde se na číselné ose nachází číslo 4</p> 	
	<p><b>Číselná osa do 20 (krátká)</b> Orientace na číselné ose (do 20, 7 dílků osy, skok 1, vzestupně) ≡ 10 otázek ⌚ 5 min 🏆 obtížnost 1</p> <p><b>LGCHBA</b> ⇨ číselná osa</p>	<p>Kde se na číselné ose nachází číslo 2</p> 	
	<p><b>Číselná osa do 20 (krátká)</b> Orientace na číselné ose (do 20, 7 dílků osy, skok 1, vzestupně) ≡ 15 otázek ⌚ 5 min 🏆 obtížnost 1</p> <p><b>SHDUNE</b> ⇨ číselná osa</p>	<p>Kde se na číselné ose nachází číslo 4</p> 	
	<p><b>Číselná osa do 20</b> Orientace na číselné ose (do 20, 11 dílků osy, skok 1, vzestupně) ≡ 10 otázek ⌚ 5 min 🏆 obtížnost 1</p> <p><b>EPLKUR</b> ⇨ číselná osa</p>	<p>Kde se na číselné ose nachází číslo 11</p> 	
	<p><b>Číselná osa do 20</b> Orientace na číselné ose (do 20, 11 dílků osy, skok 1, vzestupně) ≡ 15 otázek ⌚ 5 min 🏆 obtížnost 1</p> <p><b>ASDFGJ</b> ⇨ číselná osa</p>	<p>Kde se na číselné ose nachází číslo 6</p> 	
	<p><b>Číselná osa do 20</b> Orientace na číselné ose (do 20, různé počty dílků, skok 1, vzestupně) ≡ 10 otázek ⌚ 5 min 🏆 obtížnost 1</p> <p><b>ABPDEH</b> ⇨ číselná osa</p>	<p>Kde se na číselné ose nachází číslo 18</p> 	

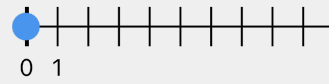
### Číselná osa do 20

Orientace na číselné ose (do 20, různé počty dílků, skok 1, vzestupně)

≡ 15 otázek ⌚ 5 min 🧘 obtížnost 1

**ENDFAJ** → číselná osa

Kde se na číselné ose nachází číslo 1



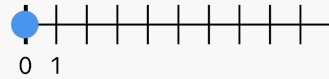
### Číselná osa do 20

Orientace na číselné ose (do 20, různé počty dílků, různé skoky, vzestupně)

≡ 10 otázek ⌚ 5 min 🧘 obtížnost 1

**VCNAUG** → číselná osa

Kde se na číselné ose nachází číslo 10



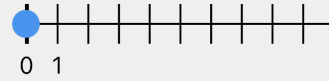
### Číselná osa do 20

Orientace na číselné ose (do 20, různé počty dílků, různé skoky, vzestupně)

≡ 15 otázek ⌚ 5 min 🧘 obtížnost 1

**CSVKLE** → číselná osa

Kde se na číselné ose nachází číslo 3



### Součet do 20 bez přechodu

Sčítání do 20 bez přechodu

≡ 10 otázek ⌚ ∞ min 🧘 obtížnost 1

**VQFEPJ** → výběr z možností

Vypočítej správně

$$6 + 13$$

Vypočítej správně

$$15 + 4$$

### Součet do 20 bez přechodu

Sčítání do 20 bez přechodu

≡ 10 otázek ⌚ ∞ min 🧘 obtížnost 1

**QATNBE** → zadání hodnoty

Vypočítej správně

$$16 + 3$$

Vypočítej správně

$$12 + 3$$



### Rozdíl do 20 bez přechodu

Odčítání do 20 bez přechodu

≡ 10 otázek ⌚ ∞ min 🧘 obtížnost 1

**SQLAHX** → výběr z možností

Vypočítej správně

$$16 - 3$$

Vypočítej správně

$$15 - 1$$

### Rozdíl do 20 bez přechodu

Odčítání do 20 bez přechodu

≡ 10 otázek ⌚ ∞ min 🧘 obtížnost 1

**DARMEC** → zadání hodnoty

Vypočítej správně

$$11 - 1$$

Vypočítej správně

$$18 - 2$$



### Rozdíl do 20 bez přechodu

Odčítání do 20 bez přechodu

≡ 10 otázek ⌚ ∞ min 🧘 obtížnost 1

**USEVBA** → výběr z možností

Vypočítej správně

$$18 - 0$$

Vypočítej správně

$$19 - 0$$

### Rozdíl do 20 bez přechodu

Odčítání do 20 bez přechodu

≡ 10 otázek ⌚ ∞ min 🧘 obtížnost 1

**LDVANB** → zadání hodnoty

Vypočítej správně

$$20 - 10$$

Vypočítej správně

$$18 - 7$$



### Součet a rozdíl do 20 bez přechodu

Sčítání a odčítání do 20 bez přechodu

≡ 10 otázek ⌚ ∞ min 🧘 obtížnost 1

**HFQNUT** → výběr z možností

Vypočítej správně

$$1 + 19$$

Vypočítej správně

$$2 + 11$$

### Součet a rozdíl do 20 bez přechodu

Sčítání a odčítání do 20 bez přechodu

≡ 10 otázek ⌚ ∞ min 🧘 obtížnost 1

**TGAMPL** → zadání hodnoty

Vypočítej správně

$$16 - 2$$

Vypočítej správně

$$9 + 11$$



### Součet a rozdíl do 20 bez přechodu

Sčítání a odčítání do 20 bez přechodu

≡ 10 otázek ⌚ ∞ min 🧘 obtížnost 1

**RHSLPT** → výběr z možností

Vypočítej správně

$$14 - 0$$

Vypočítej správně

$$5 + 11$$

### Součet a rozdíl do 20 bez přechodu

Sčítání a odčítání do 20 bez přechodu

≡ 10 otázek ⌚ ∞ min 🧘 obtížnost 1

**EVdraH** → zadání hodnoty

Vypočítej správně

$$18 - 8$$

Vypočítej správně

$$5 + 14$$



### Součet do 20 s desítkou

Sčítání do 20 s desítkou

≡ 10 otázek ⌚ ∞ min 🧘 obtížnost 1

**DATXSH** → výběr z možností

Vypočítej správně

$$2 + 10$$

Vypočítej správně

$$10 + 10$$

### Součet do 20 s desítkou

Sčítání do 20 s desítkou

≡ 10 otázek ⌚ ∞ min 🧘 obtížnost 1

**URACDJ** → zadání hodnoty

Vypočítej správně










$$10 + 5$$

Vypočítej správně

$$0 + 10$$



	<p><b>Součet do 20 s desítkou</b>  Sčítání do 20 s desítkou  ≡ 10 otázek ⌚ ∞ min 🏆 obtížnost 1  <b>PEAVFK</b>    ➡ výběr z možností</p>	<p>Vypočítej správně  10 + 9  Vypočítej správně  5 + 10</p>	
	<p><b>Součet do 20 s desítkou</b>  Sčítání do 20 s desítkou  ≡ 10 otázek ⌚ ∞ min 🏆 obtížnost 1  <b>AVUBGL</b>    ⇐ zadání hodnoty</p>	<p>Vypočítej správně  9 + 10  Vypočítej správně  10 + 0</p>	
	<p><b>Rozdíl do 20 s desítkou</b>  Odčítání do 20 s desítkou  ≡ 10 otázek ⌚ ∞ min 🏆 obtížnost 1  <b>EDNSFH</b>    ➡ výběr z možností</p>	<p>Vypočítej správně  10 - 0  Vypočítej správně  13 - 10</p>	
	<p><b>Rozdíl do 20 s desítkou</b>  Odčítání do 20 s desítkou  ≡ 10 otázek ⌚ ∞ min 🏆 obtížnost 1  <b>WFADVT</b>    ⇐ zadání hodnoty</p>	<p>Vypočítej správně  13 - 3  Vypočítej správně  10 - 0</p>	
	<p><b>Rozdíl do 20 s desítkou</b>  Odčítání do 20 s desítkou  ≡ 10 otázek ⌚ ∞ min 🏆 obtížnost 1  <b>QGRFCP</b>    ➡ výběr z možností</p>	<p>Vypočítej správně  16 - 6  Vypočítej správně  16 - 10</p>	
	<p><b>Rozdíl do 20 s desítkou</b>  Odčítání do 20 s desítkou  ≡ 10 otázek ⌚ ∞ min 🏆 obtížnost 1  <b>THEGRA</b>    ⇐ zadání hodnoty</p>	<p>Vypočítej správně  16 - 6  Vypočítej správně  15 - 10</p>	
	<p><b>Součet a rozdíl do 20 s desítkou</b>  Sčítání a odčítání do 20 s desítkou  ≡ 10 otázek ⌚ ∞ min 🏆 obtížnost 1  <b>TUVHES</b>    ➡ výběr z možností</p>	<p>Vypočítej správně  8 + 10  Vypočítej správně  12 - 2</p>	
	<p><b>Součet a rozdíl do 20 s desítkou</b>  Sčítání a odčítání do 20 s desítkou  ≡ 10 otázek ⌚ ∞ min 🏆 obtížnost 1  <b>DPQJVT</b>    ⇐ zadání hodnoty</p>	<p>Vypočítej správně  15 - 10  Vypočítej správně  16 - 10</p>	
	<p><b>Součet a rozdíl do 20 s desítkou</b>  Sčítání a odčítání do 20 s desítkou  ≡ 10 otázek ⌚ ∞ min 🏆 obtížnost 1  <b>FAEKQP</b>    ➡ výběr z možností</p>	<p>Vypočítej správně  10 + 10  Vypočítej správně  10 + 9</p>	
	<p><b>Součet a rozdíl do 20 s desítkou</b>  Sčítání a odčítání do 20 s desítkou  ≡ 10 otázek ⌚ ∞ min 🏆 obtížnost 1  <b>GSRLAT</b>    ⇐ zadání hodnoty</p>	<p>Vypočítej správně  2 + 10  Vypočítej správně  10 + 3</p>	
	<p><b>Porovnávání čísel do 20</b>  Porovnání čísel do 20  ≡ 15 otázek ⌚ 3 min 🏆 obtížnost 1  <b>KCXDLH</b>    ➡ výběr z možností</p>	<p>Zvol správný znak rovnosti či nerovnosti  15 __ 13  Zvol správný znak rovnosti či nerovnosti  15 __ 16</p>	
	<p><b>Rozdíl s rozkladem od 11</b>  Odčítání od 11, rozklad pro přechod  ≡ 8 otázek ⌚ ∞ min 🏆 obtížnost 1  <b>BEPMKJ</b>    ➡ výběr z možností</p>	<p>Vypočítej správně  11 - 1 - 3  Vypočítej správně  11 - 1 - 2</p>	
	<p><b>Rozdíl s rozkladem od 11</b>  Odčítání od 11, rozklad pro přechod  ≡ 8 otázek ⌚ ∞ min 🏆 obtížnost 1  <b>NAJSLB</b>    ⇐ zadání hodnoty</p>	<p>Vypočítej správně  11 - 1 - 0  Vypočítej správně  11 - 1 - 6</p>	
	<p><b>Rozdíl od čísla 11</b>  Odčítání od 11  ≡ 8 otázek ⌚ ∞ min 🏆 obtížnost 1  <b>CUNBAS</b>    ➡ výběr z možností</p>	<p>Vypočítej správně  11 - 7  Vypočítej správně  11 - 6</p>	
	<p><b>Rozdíl od čísla 11</b>  Odčítání od 11  ≡ 8 otázek ⌚ ∞ min 🏆 obtížnost 1  <b>SLVCND</b>    ⇐ zadání hodnoty</p>	<p>Vypočítej správně  11 - 3  Vypočítej správně  11 - 9</p>	

	<p><b>Rozdíl s rozkladem od 12</b>            Odčítání od 12, rozklad pro přechod            ≡ 8 otázek ⌚ ∞ min 🏹 obtížnost 1  <b>EJCSBF</b>    ➡ výběr z možností</p>	<p>Vypočítej správně            12 - 2 - 3            Vypočítej správně            12 - 2 - 8</p>	
	<p><b>Rozdíl s rozkladem od 12</b>            Odčítání od 12, rozklad pro přechod            ≡ 8 otázek ⌚ ∞ min 🏹 obtížnost 1  <b>AJHDVB</b>    ⇐ zadání hodnoty</p>	<p>Vypočítej správně            12 - 2 - 3            Vypočítej správně            12 - 2 - 2</p>	
	<p><b>Rozdíl od čísla 12</b>            Odčítání od 12            ≡ 8 otázek ⌚ ∞ min 🏹 obtížnost 1  <b>AEUF CJ</b>    ➡ výběr z možností</p>	<p>Vypočítej správně            12 - 4            Vypočítej správně            12 - 6</p>	
	<p><b>Rozdíl od čísla 12</b>            Odčítání od 12            ≡ 8 otázek ⌚ ∞ min 🏹 obtížnost 1  <b>EJKBHL</b>    ⇐ zadání hodnoty</p>	<p>Vypočítej správně            12 - 10            Vypočítej správně            12 - 7</p>	
	<p><b>Rozdíl s rozkladem od 13</b>            Odčítání od 13, rozklad pro přechod            ≡ 8 otázek ⌚ ∞ min 🏹 obtížnost 1  <b>JELCUA</b>    ➡ výběr z možností</p>	<p>Vypočítej správně            13 - 3 - 8            Vypočítej správně            13 - 3 - 2</p>	
	<p><b>Rozdíl s rozkladem od 13</b>            Odčítání od 13, rozklad pro přechod            ≡ 8 otázek ⌚ ∞ min 🏹 obtížnost 1  <b>UAPLKB</b>    ⇐ zadání hodnoty</p>	<p>Vypočítej správně            13 - 3 - 9            Vypočítej správně            13 - 3 - 7</p>	
	<p><b>Rozdíl od čísla 13</b>            Odčítání od 13            ≡ 8 otázek ⌚ ∞ min 🏹 obtížnost 1  <b>PSJALU</b>    ➡ výběr z možností</p>	<p>Vypočítej správně            13 - 6            Vypočítej správně            13 - 5</p>	
	<p><b>Rozdíl od čísla 13</b>            Odčítání od 13            ≡ 8 otázek ⌚ ∞ min 🏹 obtížnost 1  <b>ADNSPL</b>    ⇐ zadání hodnoty</p>	<p>Vypočítej správně            13 - 3            Vypočítej správně            13 - 7</p>	
	<p><b>Rozdíl s rozkladem od 14</b>            Odčítání od 14, rozklad pro přechod            ≡ 8 otázek ⌚ ∞ min 🏹 obtížnost 1  <b>SFVDJE</b>    ➡ výběr z možností</p>	<p>Vypočítej správně            14 - 4 - 9            Vypočítej správně            14 - 4 - 6</p>	
	<p><b>Rozdíl s rozkladem od 14</b>            Odčítání od 14, rozklad pro přechod            ≡ 8 otázek ⌚ ∞ min 🏹 obtížnost 1  <b>DBCXNA</b>    ⇐ zadání hodnoty</p>	<p>Vypočítej správně            14 - 4 - 9            Vypočítej správně            14 - 4 - 6</p>	
	<p><b>Rozdíl od čísla 14</b>            Odčítání od 14            ≡ 5 otázek ⌚ ∞ min 🏹 obtížnost 1  <b>NJAGVU</b>    ➡ výběr z možností</p>	<p>Vypočítej správně            14 - 4            Vypočítej správně            14 - 7</p>	
	<p><b>Rozdíl od čísla 14</b>            Odčítání od 14            ≡ 5 otázek ⌚ ∞ min 🏹 obtížnost 1  <b>VTUHCL</b>    ⇐ zadání hodnoty</p>	<p>Vypočítej správně            14 - 10            Vypočítej správně            14 - 8</p>	
	<p><b>Rozdíl s rozkladem od 15</b>            Odčítání od 15, rozklad pro přechod            ≡ 8 otázek ⌚ ∞ min 🏹 obtížnost 1  <b>CAKJHE</b>    ➡ výběr z možností</p>	<p>Vypočítej správně            15 - 5 - 1            Vypočítej správně            15 - 5 - 3</p>	
	<p><b>Rozdíl s rozkladem od 15</b>            Odčítání od 15, rozklad pro přechod            ≡ 8 otázek ⌚ ∞ min 🏹 obtížnost 1  <b>HALKUT</b>    ⇐ zadání hodnoty</p>	<p>Vypočítej správně            15 - 5 - 3            Vypočítej správně            15 - 5 - 5</p>	
	<p><b>Rozdíl od čísla 15</b>            Odčítání od 15            ≡ 5 otázek ⌚ ∞ min 🏹 obtížnost 1  <b>USPLKT</b>    ➡ výběr z možností</p>	<p>Vypočítej správně            15 - 9            Vypočítej správně            15 - 5</p>	

	<b>Rozdíl od čísla 15</b> Odčítání od 15 ≡ 5 otázek ⌚ ∞ min 🧠 obtížnost 1 <b>KDJMFL</b> ⇨ zadání hodnoty	Vypočítej správně 15 - 8 Vypočítej správně 15 - 6	
	<b>Součet do 15 s přechodem</b> Sčítání do 15 s přechodem ≡ 10 otázek ⌚ ∞ min 🧠 obtížnost 1 <b>AMQPVT</b> ⇨ výběr z možností	Vypočítej správně 5 + 7 Vypočítej správně 7 + 7	
	<b>Součet do 15 s přechodem</b> Sčítání do 15 s přechodem ≡ 10 otázek ⌚ ∞ min 🧠 obtížnost 1 <b>ULASQK</b> ⇨ zadání hodnoty	Vypočítej správně 3 + 8 Vypočítej správně 9 + 6	
	<b>Součet do 15 s přechodem</b> Sčítání do 15 s přechodem ≡ 10 otázek ⌚ ∞ min 🧠 obtížnost 1 <b>LES DAN</b> ⇨ výběr z možností	Vypočítej správně 8 + 4 Vypočítej správně 9 + 6	
	<b>Součet do 15 s přechodem</b> Sčítání do 15 s přechodem ≡ 10 otázek ⌚ ∞ min 🧠 obtížnost 1 <b>KVAFSX</b> ⇨ zadání hodnoty	Vypočítej správně 6 + 6 Vypočítej správně 3 + 8	
	<b>Rozdíl do 15 s přechodem</b> Odčítání do 15 s přechodem ≡ 10 otázek ⌚ ∞ min 🧠 obtížnost 1 <b>ASUQFT</b> ⇨ výběr z možností	Vypočítej správně 11 - 2 Vypočítej správně 13 - 4	
	<b>Rozdíl do 15 s přechodem</b> Odčítání do 15 s přechodem ≡ 10 otázek ⌚ ∞ min 🧠 obtížnost 1 <b>FDLASH</b> ⇨ zadání hodnoty	Vypočítej správně 14 - 5 Vypočítej správně 15 - 7	
	<b>Rozdíl do 15 s přechodem</b> Odčítání do 15 s přechodem ≡ 10 otázek ⌚ ∞ min 🧠 obtížnost 1 <b>KFASDU</b> ⇨ výběr z možností	Vypočítej správně 14 - 5 Vypočítej správně 11 - 7	
	<b>Rozdíl do 15 s přechodem</b> Odčítání do 15 s přechodem ≡ 10 otázek ⌚ ∞ min 🧠 obtížnost 1 <b>FGHDAL</b> ⇨ zadání hodnoty	Vypočítej správně 12 - 7 Vypočítej správně 14 - 5	
	<b>Součet a rozdíl do 15 s přechodem</b> Sčítání a odčítání do 15 s přechodem ≡ 10 otázek ⌚ ∞ min 🧠 obtížnost 1 <b>GHTFAB</b> ⇨ výběr z možností	Vypočítej správně 12 - 9 Vypočítej správně 9 + 3	
	<b>Součet a rozdíl do 15 s přechodem</b> Sčítání a odčítání do 15 s přechodem ≡ 10 otázek ⌚ ∞ min 🧠 obtížnost 1 <b>HVRGAJ</b> ⇨ zadání hodnoty	Vypočítej správně 14 - 7 Vypočítej správně 15 - 9	
	<b>Součet a rozdíl do 15 s přechodem</b> Sčítání a odčítání do 15 s přechodem ≡ 10 otázek ⌚ ∞ min 🧠 obtížnost 1 <b>ABEHRL</b> ⇨ výběr z možností	Vypočítej správně 14 - 6 Vypočítej správně 12 - 6	
	<b>Součet a rozdíl do 15 s přechodem</b> Sčítání a odčítání do 15 s přechodem ≡ 10 otázek ⌚ ∞ min 🧠 obtížnost 1 <b>ENVQTA</b> ⇨ zadání hodnoty	Vypočítej správně 9 + 4 Vypočítej správně 7 + 4	
	<b>Součet do 20 s přechodem</b> Sčítání do 20 s přechodem ≡ 10 otázek ⌚ ∞ min 🧠 obtížnost 1 <b>DELGUS</b> ⇨ výběr z možností	Vypočítej správně 8 + 2 + 2 Vypočítej správně 3 + 7 + 2	
	<b>Součet do 20 s přechodem</b> Sčítání do 20 s přechodem ≡ 10 otázek ⌚ ∞ min 🧠 obtížnost 1 <b>FVJLMD</b> ⇨ zadání hodnoty	Vypočítej správně 5 + 5 + 6 Vypočítej správně 2 + 8 + 4	

 <p><b>Součet do 20 s přechodem</b> Sčítání do 20 s přechodem ≡ 10 otázek ⌚ ∞ min 🏆 obtížnost 1 <b>GQNELF</b> ⇨ výběr z možností</p>	<p>Vypočítej správně 0 + 10 + 5 Vypočítej správně 8 + 2 + 1</p>	
 <p><b>Součet do 20 s přechodem</b> Sčítání do 20 s přechodem ≡ 10 otázek ⌚ ∞ min 🏆 obtížnost 1 <b>HAVBEG</b> ⇨ zadání hodnoty</p>	<p>Vypočítej správně 4 + 6 + 6 Vypočítej správně 6 + 4 + 9</p>	
 <p><b>Rozdíl do 20 s přechodem</b> Odčítání do 20 s přechodem ≡ 10 otázek ⌚ ∞ min 🏆 obtížnost 1 <b>HAFGDK</b> ⇨ výběr z možností</p>	<p>Vypočítej správně 13 - 6 Vypočítej správně 17 - 7</p>	
 <p><b>Rozdíl do 20 s přechodem</b> Odčítání do 20 s přechodem ≡ 10 otázek ⌚ ∞ min 🏆 obtížnost 1 <b>TAGHEK</b> ⇨ zadání hodnoty</p>	<p>Vypočítej správně 15 - 5 Vypočítej správně 15 - 8</p>	
 <p><b>Rozdíl do 20 s přechodem</b> Odčítání do 20 s přechodem ≡ 10 otázek ⌚ ∞ min 🏆 obtížnost 1 <b>RSHVET</b> ⇨ výběr z možností</p>	<p>Vypočítej správně 16 - 8 Vypočítej správně 13 - 9</p>	
 <p><b>Rozdíl do 20 s přechodem</b> Odčítání do 20 s přechodem ≡ 10 otázek ⌚ ∞ min 🏆 obtížnost 1 <b>EDSBAR</b> ⇨ zadání hodnoty</p>	<p>Vypočítej správně 13 - 9 Vypočítej správně 16 - 8</p>	
 <p><b>Součet a rozdíl do 20 s přechodem</b> Sčítání a odčítání do 20 s přechodem ≡ 10 otázek ⌚ ∞ min 🏆 obtížnost 1 <b>VFHNUE</b> ⇨ výběr z možností</p>	<p>Vypočítej správně 7 + 4 Vypočítej správně 11 - 3</p>	
 <p><b>Součet a rozdíl do 20 s přechodem</b> Sčítání a odčítání do 20 s přechodem ≡ 10 otázek ⌚ ∞ min 🏆 obtížnost 1 <b>QHEMLV</b> ⇨ zadání hodnoty</p>	<p>Vypočítej správně 11 - 7 Vypočítej správně 16 - 7</p>	
 <p><b>Součet a rozdíl do 20 s přechodem</b> Sčítání a odčítání do 20 s přechodem ≡ 10 otázek ⌚ ∞ min 🏆 obtížnost 1 <b>ATBLEQ</b> ⇨ výběr z možností</p>	<p>Vypočítej správně 11 - 6 Vypočítej správně 8 + 4</p>	
<p><b>Součet a rozdíl do 20 s přechodem</b> Sčítání a odčítání do 20 s přechodem ≡ 10 otázek ⌚ ∞ min 🏆 obtížnost 1 <b>SRDUHA</b> ⇨ zadání hodnoty</p>	<p>Vypočítej správně 15 - 7 Vypočítej správně 5 + 8</p>	
<p><b>Sčítání do 20</b> komplet ≡ 10 otázek ⌚ ∞ min 🏆 obtížnost 1 <b>AHVEJF</b> ⇨ výběr z možností</p>	<p>Vypočítej správně 4 + 10 Vypočítej správně 5 + 0</p>	
<p><b>Sčítání do 20</b> komplet ≡ 10 otázek ⌚ ∞ min 🏆 obtížnost 1 <b>UPCJEL</b> ⇨ zadání hodnoty</p>	<p>Vypočítej správně 10 + 8 Vypočítej správně 0 + 0</p>	
<p><b>Sčítání do 20</b> komplet ≡ 10 otázek ⌚ ∞ min 🏆 obtížnost 1 <b>EKHAJU</b> ⇨ výběr z možností</p>	<p>Vypočítej správně 9 + 9 Vypočítej správně 3 + 0</p>	
<p><b>Sčítání do 20</b> komplet ≡ 10 otázek ⌚ ∞ min 🏆 obtížnost 1 <b>ALNPUK</b> ⇨ zadání hodnoty</p>	<p>Vypočítej správně 4 + 0 Vypočítej správně 1 + 2</p>	
<p><b>Rozdíl do 20</b> komplet ≡ 10 otázek ⌚ ∞ min 🏆 obtížnost 1 <b>NSCUAH</b> ⇨ výběr z možností</p>	<p>Vypočítej správně 12 - 6 Vypočítej správně 4 - 0</p>	

	<b>Rozdíl do 20</b> komplet ≡ 10 otázek ⌚ ∞ min 🏹 obtížnost 1 <b>SDHLUR</b> ⇨ zadání hodnoty	Vypočítej správně 9 - 6 Vypočítej správně 14 - 4	
	<b>Rozdíl do 20</b> komplet ≡ 10 otázek ⌚ ∞ min 🏹 obtížnost 1 <b>DFUNLE</b> ⇨ výběr z možností	Vypočítej správně 9 - 1 Vypočítej správně 18 - 10	
	<b>Rozdíl do 20</b> komplet ≡ 10 otázek ⌚ ∞ min 🏹 obtížnost 1 <b>FGKAEV</b> ⇨ zadání hodnoty	Vypočítej správně 11 - 9 Vypočítej správně 12 - 10	
	<b>Součet a rozdíl do 20</b> Sčítání a odčítání do 20 (kompletní) ≡ 10 otázek ⌚ ∞ min 🏹 obtížnost 1 <b>BSLUAQ</b> ⇨ výběr z možností	Vypočítej správně 16 - 6 Vypočítej správně 5 + 8	
	<b>Součet a rozdíl do 20</b> Sčítání a odčítání do 20 (kompletní) ≡ 10 otázek ⌚ ∞ min 🏹 obtížnost 1 <b>JDPLUA</b> ⇨ zadání hodnoty	Vypočítej správně 13 - 10 Vypočítej správně 9 + 9	
	<b>Součet a rozdíl do 20</b> Sčítání a odčítání do 20 (kompletní) ≡ 10 otázek ⌚ ∞ min 🏹 obtížnost 1 <b>PAJDLS</b> ⇨ výběr z možností	Vypočítej správně 10 + 0 Vypočítej správně 1 + 9	
	<b>Součet a rozdíl do 20</b> Sčítání a odčítání do 20 (kompletní) ≡ 10 otázek ⌚ ∞ min 🏹 obtížnost 1 <b>AGNEJD</b> ⇨ zadání hodnoty	Vypočítej správně 11 - 10 Vypočítej správně 4 + 10	
	<b>Číselná řada 0 .. 20</b> Doplnění čísla do číselné řady (do 20) - vzestupně ≡ 10 otázek ⌚ ∞ min 🏹 obtížnost 1 <b>UAKJCN</b> ⇨ zadání hodnoty	Doplň správné číslo do číselné řady 10 - 11 - __ - 13	
	<b>Číselná řada 20 .. 0</b> Doplnění čísla do číselné řady (do 20) - sestupně ≡ 10 otázek ⌚ ∞ min 🏹 obtížnost 1 <b>KULNHV</b> ⇨ zadání hodnoty	Doplň správné číslo do číselné řady 18 - 17 - __ - 15	
	<b>Součet do 20 s přechodem</b> Sčítání do 20 s přechodem ≡ 10 otázek ⌚ ∞ min 🏹 obtížnost 1 <b>PEHLDU</b> ⇨ výběr z možností	Vypočítej správně 2 + 9 Vypočítej správně 5 + 8	
	<b>Součet do 20 s přechodem</b> Sčítání do 20 s přechodem ≡ 10 otázek ⌚ ∞ min 🏹 obtížnost 1 <b>ABUJGK</b> ⇨ zadání hodnoty	Vypočítej správně 9 + 8 Vypočítej správně 8 + 4	
	<b>Součet do 20 s přechodem</b> Sčítání do 20 s přechodem ≡ 10 otázek ⌚ ∞ min 🏹 obtížnost 1 <b>SUKNHL</b> ⇨ výběr z možností	Vypočítej správně 7 + 8 Vypočítej správně 7 + 6	
	<b>Součet do 20 s přechodem</b> Sčítání do 20 s přechodem ≡ 10 otázek ⌚ ∞ min 🏹 obtížnost 1 <b>DFCAJP</b> ⇨ zadání hodnoty	Vypočítej správně 5 + 8 Vypočítej správně 8 + 9	
	<b>Součet do 20</b> Sčítání do 20, kde výsledek je vždy 20 ( $15 + x = 20$ ) ≡ 10 otázek ⌚ ∞ min 🏹 obtížnost 1 <b>LKPVUC</b> ⇨ výběr z možností	Vypočítej správně 13 + __ = 20 Vypočítej správně 17 + __ = 20	
	<b>Součet do 20</b> Sčítání do 20, kde výsledek je vždy 20 ( $15 + x = 20$ ) ≡ 10 otázek ⌚ ∞ min 🏹 obtížnost 1 <b>PLACKH</b> ⇨ zadání hodnoty	Vypočítej správně 14 + __ = 20 Vypočítej správně 11 + __ = 20	

<p><b>Rozdíl do 20</b>            Odčítání do 20, kde vždy se odčítá od 20 (20 - x)            ≡ 10 otázek ⌚ ∞ min 🏆 obtížnost 1  <b>JPNALU</b>    ➡ výběr z možností</p>	<p>Vypočítej správně            20 - 16            Vypočítej správně            20 - 13</p>	
<p> <b>Rozdíl do 20</b>            Odčítání do 20, kde vždy se odčítá od 20 (20 - x)            ≡ 10 otázek ⌚ ∞ min 🏆 obtížnost 1  <b>NJVPAK</b>    ⇨ zadání hodnoty</p>	<p>Vypočítej správně            20 - 15            Vypočítej správně            20 - 11</p>	
<p><b>Součet a rozdíl do 20</b>            Sčítání a odčítání do 20, kde je vždy 20            ≡ 15 otázek ⌚ ∞ min 🏆 obtížnost 1  <b>VNCAJL</b>    ➡ výběr z možností</p>	<p>Vypočítej správně            20 - 12            Vypočítej správně            12 + __ = 20</p>	
<p> <b>Součet a rozdíl do 20</b>            Sčítání a odčítání do 20, kde je vždy 20            ≡ 15 otázek ⌚ ∞ min 🏆 obtížnost 1  <b>CVHSLP</b>    ⇨ zadání hodnoty</p>	<p>Vypočítej správně            19 + __ = 20            Vypočítej správně            11 + __ = 20</p>	
<p><b>Součet do 10</b>            Sčítání více čísel do 10 (1 + 1 + 2 + 2)            ≡ 10 otázek ⌚ ∞ min 🏆 obtížnost 1  <b>HCUDPJ</b>    ➡ výběr z možností</p>	<p>Vypočítej správně            1 + 1 + 1 + 1            Vypočítej správně            4 + 3 + 2 + 1</p>	
<p> <b>Součet do 10</b>            Sčítání více čísel do 10 (1 + 1 + 2 + 2)            ≡ 10 otázek ⌚ ∞ min 🏆 obtížnost 1  <b>ULKHAN</b>    ⇨ zadání hodnoty</p>	<p>Vypočítej správně            4 + 3 + 2 + 1            Vypočítej správně            2 + 2 + 2 + 2</p>	
<p><b>Rozdíl do 10</b>            Odčítání více čísel do 10 (10 - 2 - 2)            ≡ 10 otázek ⌚ ∞ min 🏆 obtížnost 1  <b>KALUNV</b>    ➡ výběr z možností</p>	<p>Vypočítej správně            10 - 4 - 3            Vypočítej správně            10 - 1 - 1 - 1</p>	
<p> <b>Rozdíl do 10</b>            Odčítání více čísel do 10 (10 - 2 - 2)            ≡ 10 otázek ⌚ ∞ min 🏆 obtížnost 1  <b>LAPKVC</b>    ⇨ zadání hodnoty</p>	<p>Vypočítej správně            10 - 7 - 3            Vypočítej správně            10 - 3 - 1 - 3</p>	
<p><b>Součet do 20</b>            Sčítání více čísel do 20 (4 + 1 + 3 + 4)            ≡ 10 otázek ⌚ ∞ min 🏆 obtížnost 1  <b>PLJACS</b>    ➡ výběr z možností</p>	<p>Vypočítej správně            7 + 4 + 5 + 2            Vypočítej správně            7 + 4 + 2 + 4</p>	
<p> <b>Součet do 20</b>            Sčítání více čísel do 20 (4 + 1 + 3 + 4)            ≡ 10 otázek ⌚ ∞ min 🏆 obtížnost 1  <b>JPNDEH</b>    ⇨ zadání hodnoty</p>	<p>Vypočítej správně            4 + 6 + 5            Vypočítej správně            6 + 4 + 3 + 2</p>	
<p><b>Rozdíl do 20</b>            Odčítání více čísel od 20 (20 - 4 - 1)            ≡ 10 otázek ⌚ ∞ min 🏆 obtížnost 1  <b>NJVDDA</b>    ➡ výběr z možností</p>	<p>Vypočítej správně            20 - 6 - 3 - 6            Vypočítej správně            20 - 4 - 4 - 5</p>	
<p> <b>Rozdíl do 20</b>            Odčítání více čísel od 20 (20 - 4 - 1)            ≡ 10 otázek ⌚ ∞ min 🏆 obtížnost 1  <b>VNCAKU</b>    ⇨ zadání hodnoty</p>	<p>Vypočítej správně            20 - 6 - 3 - 2 - 5            Vypočítej správně            20 - 8 - 4</p>	
<p><b>Součet a rozdíl do 20 - l</b>            Sčítání a odčítání do 20 s použitím jednotky l (litr)            ≡ 10 otázek ⌚ 5 min 🏆 obtížnost 1  <b>LAKEUS</b>    ➡ výběr z možností</p>	<p>Vypočítej správně            16 l + 12 l            Vypočítej správně            5 l + 3 l</p>	
<p> <b>Součet a rozdíl do 20 - l</b>            Sčítání a odčítání do 20 s použitím jednotky l (litr)            ≡ 20 otázek ⌚ 5 min 🏆 obtížnost 1  <b>EQLGUA</b>    ➡ výběr z možností</p>	<p>Vypočítej správně            12 l + 2 l            Vypočítej správně            17 l + 2 l</p>	
<p><b>Součet a rozdíl do 20 - kg</b>            Sčítání a odčítání do 20 s použitím jednotky kg (kilogram)            ≡ 10 otázek ⌚ 5 min 🏆 obtížnost 1  <b>AVPHLU</b>    ➡ výběr z možností</p>	<p>Vypočítej správně            9 kg + 5 kg            Vypočítej správně            9 kg - 9 kg</p>	



**Součet a rozdíl do 20 - kg**

Sčítání a odčítání do 20 s použitím jednotky kg (kilogram)

≡ 20 otázek ⌚ 5 min 🏆 obtížnost 1


**UCJPEL** → výběr z možností

Vypočítej správně

$10 \text{ kg} - 1 \text{ kg}$

Vypočítej správně

$10 \text{ kg} + 1 \text{ kg}$

**Součet a rozdíl do 20 - m**

Sčítání a odčítání do 20 s použitím jednotky m (metr)

≡ 10 otázek ⌚ 5 min 🏆 obtížnost 1

**LDNSAE** → výběr z možností

Vypočítej správně

$13 \text{ m} - 12 \text{ m}$

Vypočítej správně

$12 \text{ m} + 1 \text{ m}$

**Součet a rozdíl do 20 - m**

Sčítání a odčítání do 20 s použitím jednotky m (metr)

≡ 20 otázek ⌚ 5 min 🏆 obtížnost 1

**ELVBGA** → výběr z možností

Vypočítej správně

$2 \text{ m} + 11 \text{ m}$

Vypočítej správně

$14 \text{ m} - 8 \text{ m}$

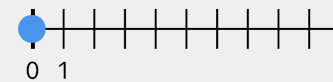
**Číselná osa do 20**

Orientace na číselné ose (do 20, 11, skok -1, sestupně)

≡ 10 otázek ⌚ 5 min 🏆 obtížnost 1

**XECAJD** → číselná osa

Kde se na číselné ose nachází číslo 7

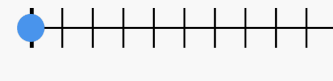
**Číselná osa do 20**

Orientace na číselné ose (do 20, 11, skok -1, sestupně)

≡ 15 otázek ⌚ 5 min 🏆 obtížnost 1

**LAEPJC** → číselná osa

Kde se na číselné ose nachází číslo 11

**Součet hodnot mincí 20**

Součet hodnot - mince - do 20

≡ 10 otázek ⌚ 5 min 🏆 obtížnost 1

**CABGEL** → výběr z možností

Sečti hodnoty mincí

**Součet hodnot mincí 20**

Součet hodnot - mince - do 20

≡ 10 otázek ⌚ 5 min 🏆 obtížnost 1

**DVNHAG** → zadání hodnoty

Sečti hodnoty mincí

**Součet s přechodem 10 A**

Přifazování, příklady s přechodem 10 - sčítání

≡ 2 otázek ⌚ 5 min 🏆 obtížnost 1

**JLABKH** → přiřazení

$3 + 8 \leftarrow \rightarrow 11$

$12 \leftarrow \rightarrow 5 + 9$

**Součet s přechodem 10 B**

Přifazování, příklady s přechodem 10 - sčítání

≡ 2 otázek ⌚ 5 min 🏆 obtížnost 1

**GBANLP** → přiřazení

$5 + 8 \leftarrow \rightarrow 13$

$14 \leftarrow \rightarrow 7 + 9$

**Součet s přechodem 10 C**

Přifazování, příklady s přechodem 10 - sčítání

≡ 2 otázek ⌚ 5 min 🏆 obtížnost 1

**VHECPL** → přiřazení

$6 + 8 \leftarrow \rightarrow 14$

$15 \leftarrow \rightarrow 8 + 9$

**Součet s přechodem 10 D**

Přifazování, příklady s přechodem 10 - sčítání

≡ 2 otázek ⌚ 5 min 🏆 obtížnost 1

**DPVSJB** → přiřazení

$3 + 8 \leftarrow \rightarrow 11$

$12 \leftarrow \rightarrow 4 + 9$

**Rozdíl s přechodem 10 A**

Přifazování, příklady s přechodem 10 - odčítání

≡ 2 otázek ⌚ 5 min 🏆 obtížnost 1

**ALCEPN** → přiřazení

$12 - 9 \leftarrow \rightarrow 3$

$4 \leftarrow \rightarrow 13 - 8$

**Rozdíl s přechodem 10 B**

Přifazování, příklady s přechodem 10 - odčítání

≡ 2 otázek ⌚ 5 min 🏆 obtížnost 1

**EPDABC** → přiřazení

$15 - 9 \leftarrow \rightarrow 6$

$7 \leftarrow \rightarrow 16 - 8$

**Rozdíl s přechodem 10 C**

Přifazování, příklady s přechodem 10 - odčítání

≡ 2 otázek ⌚ 5 min 🏆 obtížnost 1

**KNLAPS** → přiřazení

$11 - 8 \leftarrow \rightarrow 3$

$4 \leftarrow \rightarrow 12 - 7$

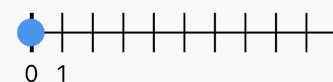
**Číselná osa do 20**

Orientace na číselné ose (do 20, základní, skok 1, vzestupně)

≡ 10 otázek ⌚ ∞ min 🏆 obtížnost 1

**VBURNH** → číselná osa

Kde se na číselné ose nachází číslo 6



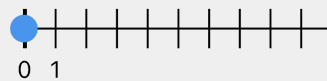
### Číselná osa do 20

Orientace na číselné ose (do 20, základní, skok 1, vzestupně)

☰ 10 otázek ⌚ ∞ min 🏹 obtížnost 1

**CNLTVP** ↔ číselná osa

Kde se na číselné ose nachází číslo 9



### Sčítání, přechod 10 A

Setřídění, příklady s přechodem 10 - sčítání

☰ 4 otázek ⌚ 4 min 🏹 obtížnost 2

**CAPGLE** ↔ setřídění

$$3 + 8 - 4 + 8 - 5 + 9$$



### Sčítání, přechod 10 A

Setřídění, příklady s přechodem 10 - sčítání

☰ 5 otázek ⌚ 4 min 🏹 obtížnost 2

**SAJHEK** ↔ setřídění

$$3 + 8 - 4 + 8 - 5 + 9$$



### Sčítání, přechod 10 B

Setřídění, příklady s přechodem 10 - sčítání

☰ 4 otázek ⌚ 4 min 🏹 obtížnost 2

**ERNPAL** ↔ setřídění

$$4 + 8 - 7 + 7 - 6 + 9$$

### Sčítání, přechod 10 B

Setřídění, příklady s přechodem 10 - sčítání

☰ 5 otázek ⌚ 4 min 🏹 obtížnost 2

**AVPLUG** ↔ setřídění

$$4 + 8 - 7 + 7 - 6 + 9$$



### Porovnání součtů do 20

Porovnání dvou součtů - do 20 s přechodem

☰ 10 otázek ⌚ 5 min 🏹 obtížnost 2

**BLVRCD** ↔ výber z možností

Zvol správný znak rovnosti či nerovnosti

$$8 + 9 \_ \_ 7 + 7$$

Zvol správný znak rovnosti či nerovnosti

$$3 + 9 \_ \_ 5 + 7$$

### Porovnání součtů do 20

Porovnání dvou součtů - do 20 s přechodem

☰ 20 otázek ⌚ 5 min 🏹 obtížnost 2

**NGCADL** ↔ výber z možností

Zvol správný znak rovnosti či nerovnosti

$$6 + 8 \_ \_ 7 + 8$$

Zvol správný znak rovnosti či nerovnosti

$$9 + 9 \_ \_ 7 + 7$$



### Porovnání rozdílů do 20

Porovnání dvou rozdílů - do 20 s přechodem

☰ 10 otázek ⌚ 5 min 🏹 obtížnost 2

**KHDELC** ↔ výber z možností

Zvol správný znak rovnosti či nerovnosti

$$15 - 7 \_ \_ 13 - 6$$

Zvol správný znak rovnosti či nerovnosti

$$18 - 9 \_ \_ 16 - 9$$

### Porovnání rozdílů do 20

Porovnání dvou rozdílů - do 20 s přechodem

☰ 20 otázek ⌚ 5 min 🏹 obtížnost 2

**APLJGS** ↔ výber z možností

Zvol správný znak rovnosti či nerovnosti

$$11 - 8 \_ \_ 15 - 8$$

Zvol správný znak rovnosti či nerovnosti

$$14 - 7 \_ \_ 15 - 9$$



### Liché & sudé do 20

Rozhodnutí, zda je číslo liché či sudé

☰ 10 otázek ⌚ 3 min 🏹 obtížnost 2

**XJVUKR** ↔ výber z možností

Rozhodni se, zda je číslo liché nebo sudé

63

Rozhodni se, zda je číslo liché nebo sudé

56

### Liché & sudé do 20

Rozhodnutí, zda je číslo liché či sudé

☰ 15 otázek ⌚ 3 min 🏹 obtížnost 2

**CETUAN** ↔ výber z možností

Rozhodni se, zda je číslo liché nebo sudé

63

Rozhodni se, zda je číslo liché nebo sudé

67

